

ВСЕРОССИЙСКАЯ ОЛИМПИАДА ШКОЛЬНИКОВ ПО ОСНОВАМ БЕЗОПАСНОСТИ
ЖИЗНЕДЕЯТЕЛЬНОСТИ
(РЕГИОНАЛЬНЫЙ ЭТАП)

ТЕОРЕТИЧЕСКИЙ ТУР

старшая возрастная группа (10-11 классы)

Код/шифр участника

С	Т	-	1	8		
---	---	---	---	---	--	--

Уважаемый участник Олимпиады!

Вам предстоит выполнить теоретические (письменные) и тестовые задания.

Выполнение теоретических (письменных) заданий целесообразно организовать следующим образом:

- не спеша, внимательно прочитайте задание и определите, наиболее верный и полный ответ;
- отвечая на теоретический вопрос, обдумайте и сформулируйте конкретный ответ только на поставленный вопрос;
- если Вы отвечаете на задание, связанное с заполнением таблицы или схемы, не старайтесь детализировать информацию, вписывайте только те сведения или данные, которые указаны в вопросе;
- особое внимание обратите на задания, в выполнении которых требуется выразить Ваше мнение с учетом анализа ситуации или поставленной проблемы. Внимательно и вдумчиво определите смысл вопроса и логику ответа (последовательность и точность изложения). Отвечая на вопрос, предлагайте свой вариант решения проблемы, при этом ответ должен быть кратким, но содержать необходимую информацию;

- после выполнения всех предложенных заданий еще раз удостоверьтесь в правильности выбранных Вами ответов и решений.

Выполнение тестовых заданий целесообразно организовать следующим образом:

- не спеша, внимательно прочитайте тестовое задание;
- определите, какой из предложенных вариантов ответа наиболее верный и полный;
- обведите кружком букву, соответствующую выбранному Вами ответу;
- продолжайте таким образом работу до завершения выполнения тестовых заданий;
- после выполнения всех предложенных заданий еще раз удостоверьтесь в правильности выбранных Вами ответов;
- если потребуется корректировка выбранного Вами варианта ответа, то неправильный вариант ответа зачеркните крестиком, а новый выбранный ответ обведите кружком.

Предупреждаем Вас, что:

- при оценке тестовых заданий, где необходимо определить один *правильный ответ*, 0 баллов выставляется как за неверный ответ, а также, если участником отмечены несколько ответов (в том числе правильный), или все ответы;

- при оценке тестовых заданий, где необходимо определить все *правильные ответы*, 0 баллов выставляется, если участником отмечено большее количество ответов, чем предусмотрено в задании (в том числе правильные ответы) или все ответы.

Задание теоретического тура считается выполненным, если Вы вовремя сдаете его членам жюри. **Максимальная оценка - 150 баллов.**

Желаем вам успеха!

Общая оценка результата выполнения участником
заданий теоретического тура

_____ баллов

Председатель жюри _____

МОДУЛЬ 1

ЗАДАНИЕ 1. Перечислите, каким образом можно подать сигнал бедствия в безоблачную погоду для привлечения внимания лётчика-спасателя.

1. Расстелить на поверхности большое яркое пологие
2. На открытой местности, используя разл. под. средства, изобразить общепринятые сигналы бедствия
3. В темное время суток - яркий сигнальный костер
4. В темное время суток - подача сигналов фонарями
5. В светлое время суток - разжигание дымового костра
6. В любое время суток - подача заглм. сигнала из ракетницы
7. В темное время суток - поджигание файеров и т.д.
8. В светлое время суток - дымов. машина разн. раск. увенков

Оценочные баллы: максимальный - 8 баллов; фактический - 5 баллов

Подписи членов жюри _____

ЗАДАНИЕ 2. Заполните таблицу, вписав переносчиков инфекционных заболеваний человека.

Насекомые-переносчики инфекционных заболеваний	
Инфекционные заболевания	Насекомое переносчик
Энцефалит, туляремия	Клещ <input checked="" type="checkbox"/>
Малярия	Комар <input checked="" type="checkbox"/>
Чума	Блоха <input checked="" type="checkbox"/>
Дизентерия, конъюнктивит, холера	Мука <input checked="" type="checkbox"/>
Сыпной тиф, возвратный тиф	Вошь, вши <input checked="" type="checkbox"/>

Оценочные баллы: максимальный - 6 баллов; фактический - 6 баллов



Подписи членов жюри _____

ЗАДАНИЕ 3. По описанию совершённого деяния определите вид преступной деятельности и впишите его в таблицу.

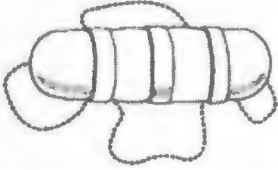




Деяние	Наименование преступления
Открытое, явное похищение чужого имущества	Грабеж ✓
Грубое нарушение общественного порядка, выражающее явное <u>неуважение к обществу</u>	Экстремизм
Проявление крайней нетерпимости и насилия, <u>устрашение</u> населения насильственными и иными противоправными действиями с целью воздействия на принятие решений <u>органами власти</u>	Терроризм ✓
Массовое выступление, сопровождающееся насилием, <u>погромами, поджогами, уничтожением имущества</u> , применением оружия, возможно с оказанием вооружённого сопротивления власти	Вандализм Вандализм

Оценочные баллы: максимальный – 4 балла; фактический – 2 балла

Подписи членов жюри

ЗАДАНИЕ 4. Заполните таблицу, вписав наименования табельных спасательных средств на воде и на льду

Графическое изображение	Наименование средства
	<p>Колобашка</p> <p style="text-align: right;">✓</p>
	<p>Спасательный жезл</p> <p style="text-align: right;">✓</p>
	<p>Спасательный круг</p> <p style="text-align: right;">✓</p>
	<p>Александровское кольцо</p> <p style="text-align: right;">✓</p>
	<p>Спасательная лестница</p> <p style="text-align: right;">✓</p>

Оценочные баллы: максимальный – 10 баллов; фактический – ~~10~~ 8 баллов

Подписи членов жюри

[Handwritten signatures]

ЗАДАНИЕ 5. Определите по описанию внешних признаков из приведённых примеров вид пожара и впишите в таблицу соответствующую букву.


Виды пожара:

- а) внутренний открытый;
- б) открытый;
- в) скрытый;
- г) внутренний скрытый;
- д) наружный;
- е) внутренний.

Внешние признаки пожара	Вид пожара (буква)
Из окон здания идёт дым, огня не видно	е е ✓
Из окон здания идёт дым, видно пламя	г ✓
Горит штабель лесоматериалов на открытой площадке	б ✓
Из окон здания идёт небольшой дым; внутри здания огня не видно, но концентрация дыма очень высока	з ✓
Из окон здания идёт дым, внутри здания горит мебель	а ✓

Оценочные баллы: максимальный – 10 баллов; фактический – 10 баллов

Подписи членов жюри



ЗАДАНИЕ 6. Степень опасности химических веществ связана с путями их попадания в организм человека. Их подразделяют на 6 групп по принципу проникновения.

Перечислите их.

- 1. Глаза
- 2. Нос и слизистая оболочка носа
- 3. Ротовая полость при дыхании
- 4. Нервно - парализующие
- 5. Космо - капризные
- 6. Удушьяющие
- 7. Отравающие
- 8. Общеядовитые
- 9. Раздражающие

Оценочные баллы: максимальный – 12 баллов; фактический – 4 баллов

Подписи членов жюри _____

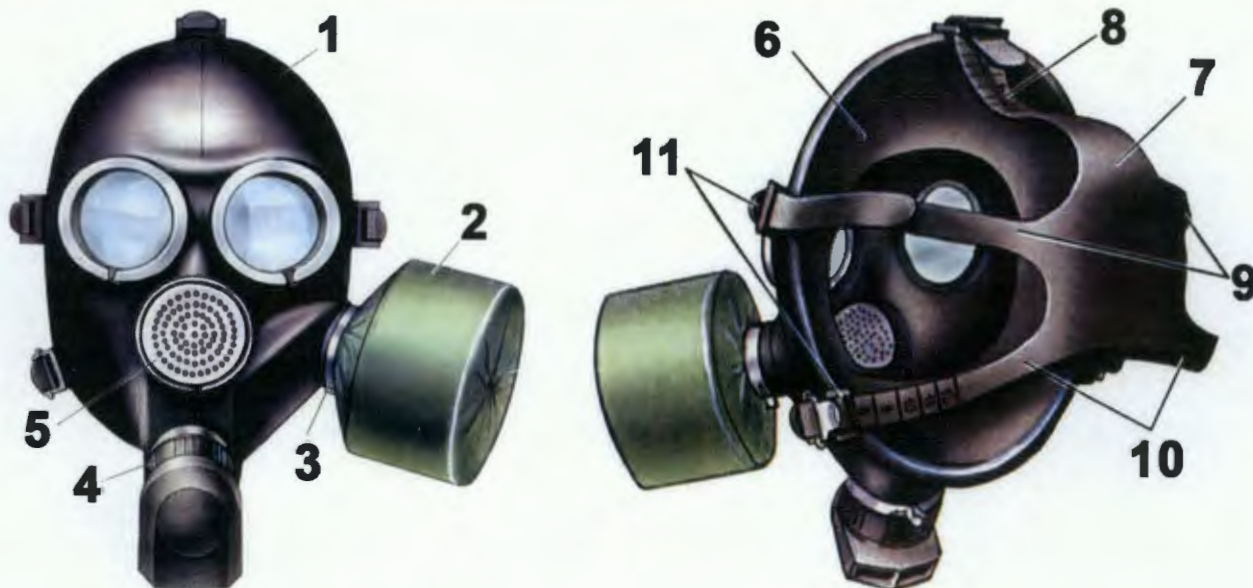
ЗАДАНИЕ 7. В промышленности, сельском хозяйстве, быту очень широкое применение находят такие АХОВ, как хлор и аммиак. Из содержания таблицы выберите признаки и свойства, характеризующие хлор и аммиак, их применение и воздействия на организм, и соотнесите их с помощью стрелок.



Оценочные баллы: максимальный – 13 баллов; фактический – 7 баллов

Подписи членов жюри

ЗАДАНИЕ 9. Определите тип и марку изображенного на рисунке противогаза. Укажите названия составных частей противогаза, отмеченных цифрами.



Тип противогаза - *трансданский*

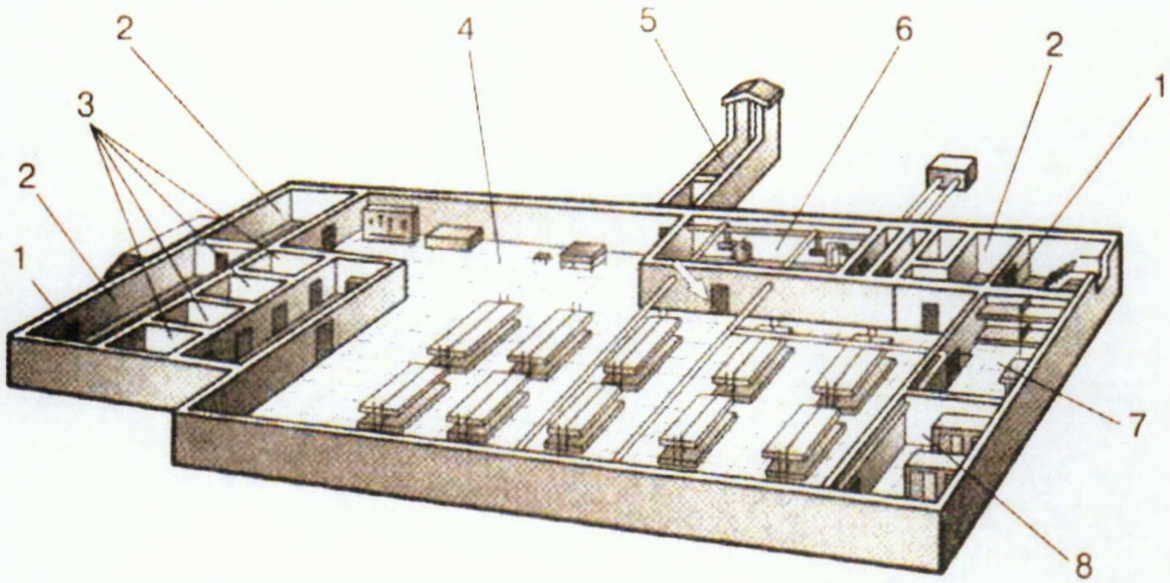
Марка противогаза - *ГП-7*

1	шлем-маска
2	сменный фильтр
3	сменного крепление сменного фильтра
4	крепление для трубки
5	фильтр. мембрана
6	резинов. подкладка
7	подголовник
8	ремень фиксации затылочной верхней части головы
9	ремень фиксации височной части
10	ремень фиксации нижнечелюстного отдела головы
11	фиксаторы

Оценочные баллы: максимальный - *13* баллов; фактический - *9* баллов

Подписи членов жюри *[Signature]*

ЗАДАНИЕ 10. На рисунке изображен эскиз защитного сооружения ГО. Назовите тип защитного сооружения и перечислите его элементы, отмеченные цифрами.



A

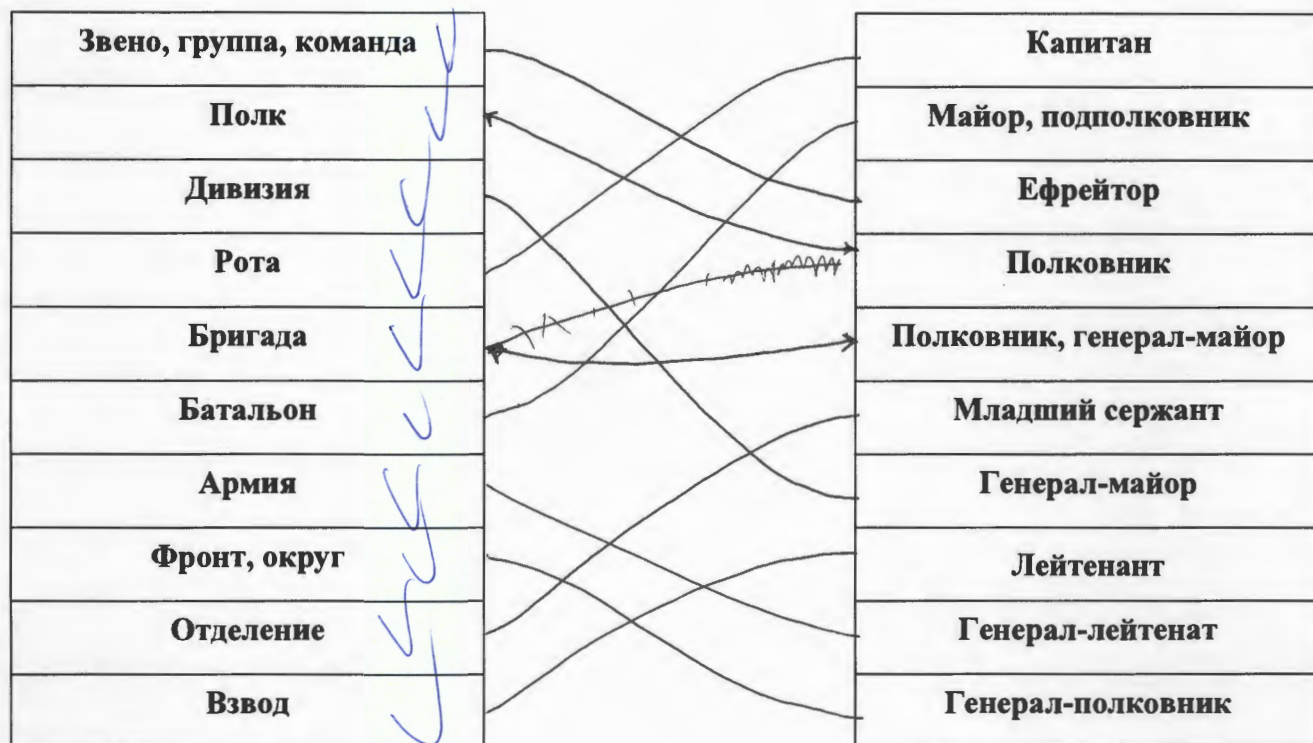
Тип защитного сооружения - по бомбоубежище

1	вход
2	корридор
3	
4	места разм. людей
5	зан. выход
6	камера вентиляц. камера
7	шкаф
8	

Оценочные баллы: максимальный - 9 баллов; фактический - 4 баллов

Подписи членов жюри

ЗАДАНИЕ 11. Укажите стрелками соответствие между названиями воинских формирований (левый столбец) и уровнем командования (правый столбец).

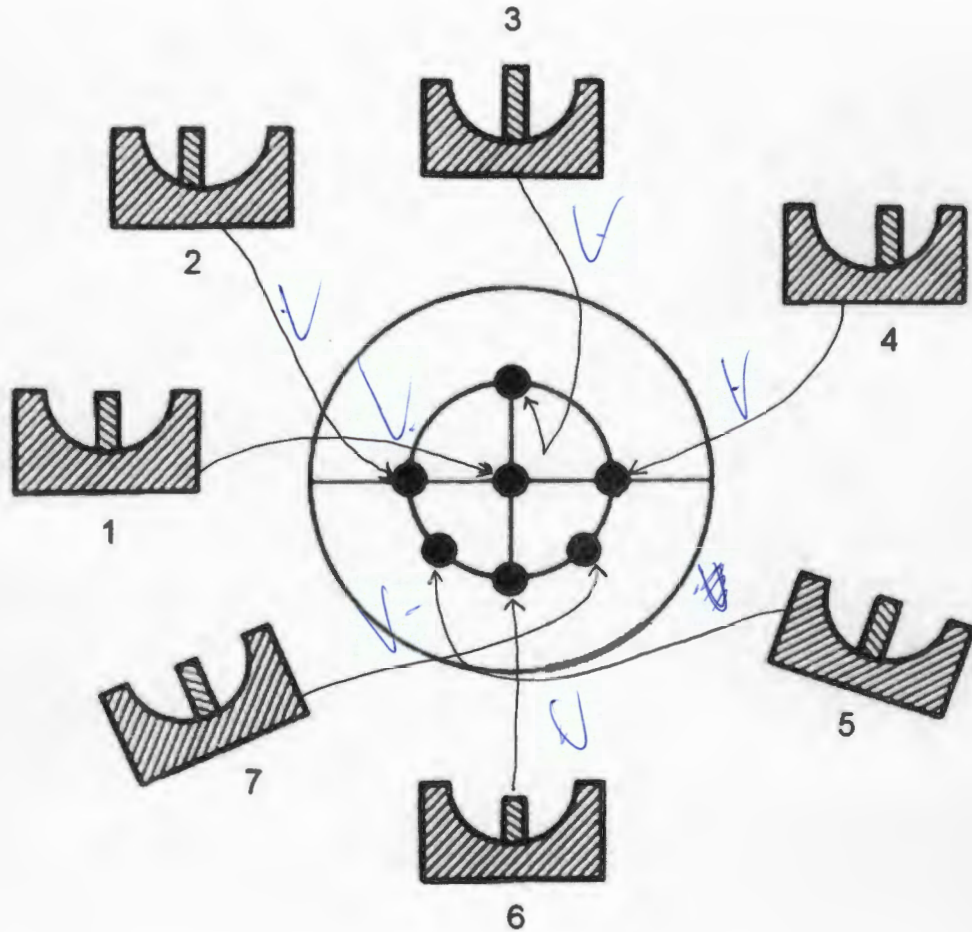


Оценочные баллы: максимальный — 10 баллов; фактический — 10 баллов

Подписи членов жюри

[Handwritten signatures]

ЗАДАНИЕ 12. Рассмотрите рисунок и напишите, что он иллюстрирует. Подпишите названия отдельных элементов рисунка 1-7. Укажите стрелками соответствие между этими элементами 1-7 и точками, изображенными на рисунке в центре круга.



Прицел — Пробина

1 — центр мишени

2 — левый край мишени

3 — верх мишени

4 — правый край мишени

5 — левый нижний угол мишени

6 — низ мишени

7 — правый нижний угол мишени

Оценочные баллы: максимальный — 16 баллов; фактический — 15 баллов

Подписи членов жюри

МОДУЛЬ 2
Тестовые задания

№ п/п	Тестовые задания	Макс. балл	Кол-во набранных баллов
<i>Определите один правильный ответ</i>			
1.	<p>При организации однодневного турпохода рекомендуется выбирать до конечной точки маршрута расстояние не более:</p> <p>а) 10 км в одну сторону; б) 15 км в одну сторону; в) 20 км в одну сторону; г) 25 км в одну сторону.</p>	1	1
2.	<p>Основным источником энергии для человека являются:</p> <p>а) жиры; б) белки; в) витамины; г) углеводы.</p>	1	1
3.	<p>Лунные сутки длятся:</p> <p>а) 15 земных суток; б) 20 земных суток; в) 25 земных суток; г) 29 земных суток.</p>	1	—
4.	<p>Элемент дороги, предназначенный для движения безрельсовых транспортных средств, называется:</p> <p>а) дорога; б) проезжая часть; в) магистраль; г) трасса.</p>	1	1
5.	<p>К кишечным инфекциям относят:</p> <p>а) чуму; б) столбняк; в) дизентерию; г) дифтерию.</p>	1	—

6.	<p>В случае аварийного приводнения самолета спасательные жилеты приводятся в рабочее состояние:</p> <p>а) после покидания салона самолета;</p> <p><input checked="" type="checkbox"/> б) после соприкосновения самолета с поверхностью воды;</p> <p><input type="checkbox"/> в) до соприкосновения самолета с поверхностью воды;</p> <p>г) перед выходом из салона самолета.</p>	1	—
7.	<p>Завладение чужим имуществом путем обмана или подлога называется:</p> <p>а) кража;</p> <p><input checked="" type="checkbox"/> б) мошенничество;</p> <p>в) грабеж;</p> <p>г) вымогательство.</p>	1	1
8.	<p>Умышленные деяния, за совершение которых максимальное наказание, предусмотренное УК РФ не превышает 10 лет лишения свободы относится к:</p> <p>а) преступлениям небольшой тяжести;</p> <p>б) преступлениям средней тяжести;</p> <p><input checked="" type="checkbox"/> в) тяжким преступлениям;</p> <p>г) особо тяжким преступлениям.</p>	1	1
9.	<p>Химически опасные объекты строятся:</p> <p>а) на большом расстоянии друг от друга;</p> <p><input checked="" type="checkbox"/> б) с учетом розы ветров данной местности;</p> <p>в) на безопасном расстоянии от рек, водоемов, морского побережья и подземных водоносных слоев;</p> <p>г) с наветренной стороны жилых зон.</p>	1	—
10.	<p>Самым многочисленным по боевому составу видом Вооруженных Сил Российской Федерации являются:</p> <p><input checked="" type="checkbox"/> а) Сухопутные войска;</p> <p>б) Военно-морской флот;</p> <p>в) Воздушно-космические силы;</p> <p>г) Мотострелковые войска.</p>	1	1
11.	<p>Обязанности военнослужащих подразделяются на:</p> <p>а) общие, должностные, боевые и специальные;</p> <p><input checked="" type="checkbox"/> б) общие, должностные и специальные;</p> <p>в) общие, боевые и специальные;</p> <p>г) общие и специальные.</p>	1	1

Определите все правильные ответы

12.	<p>Кроме никотина табачный дым содержит:</p> <p><input checked="" type="radio"/> а) синильную кислоту;</p> <p>б) соляную кислоту;</p> <p><input checked="" type="radio"/> в) аммиак;</p> <p>г) соединения хлора;</p> <p>д) водород.</p>	2	2
13.	<p>Управлять квадроциклом, согласно ПДД, можно:</p> <p>а) с 16 лет;</p> <p>б) имея права категории А, так как квадроцикл приравнен к мотоциклу;</p> <p><input checked="" type="radio"/> в) с 18 лет;</p> <p><input checked="" type="radio"/> г) имея удостоверение тракториста-машиниста, так как квадроцикл приравнен к самоходной машине;</p> <p>д) имея водительское удостоверение любой категории.</p>	2	—
14.	<p>К запрещающим дорожным знакам относятся:</p> <p>а) таможня;</p> <p><input checked="" type="radio"/> б) опасность;</p> <p>в) железнодорожный переезд без шлагбаума;</p> <p><input checked="" type="radio"/> г) уступите дорогу.</p>	2	1
15.	<p>К заболеваниям, сопровождающимся инфекцией дыхательных путей относятся:</p> <p><input checked="" type="radio"/> а) грипп;</p> <p>б) чума;</p> <p><input checked="" type="radio"/> в) туляремия;</p> <p>г) дифтерия;</p> <p><input checked="" type="radio"/> д) корь;</p> <p>е) малярия.</p>	3	2
16.	<p>К индивидуальному снаряжению туриста в коллективном походе относятся:</p> <p>а) топор;</p> <p><input checked="" type="radio"/> б) туристский коврик;</p> <p><input checked="" type="radio"/> в) спальный мешок;</p> <p>г) палатка.</p>	2	2

17.	<p>В состав танкового экипажа танка Т-80 входят:</p> <p>а) водитель;</p> <p>б) заряжающий;</p> <p>в) наводчик;</p> <p>Ⓐ стрелок-радист;</p> <p>Ⓓ механик-водитель.</p>	2	1
18.	<p>По длительности проведения эвакуация может быть:</p> <p>Ⓐ временной;</p> <p>б) постоянной;</p> <p>Ⓑ среднесрочной;</p> <p>Ⓒ долгосрочной;</p> <p>д) короткой;</p> <p>е) продолжительной.</p>	3	2
19.	<p>Проблесковый маячок желтого или оранжевого цвета означает:</p> <p>Ⓐ перевозку крупногабаритных грузов, взрывчатых, легковоспламеняющихся, радиоактивных веществ;</p> <p>б) перевозку групп детей;</p> <p>Ⓑ выполнение работ по строительству, ремонту или содержанию дорог;</p> <p>г) не является специальным сигналом</p>	2	2
20.	<p>К корабельной (палубной) авиации ВМФ относятся следующие типы самолетов и вертолетов:</p> <p>Ⓐ Су-33;</p> <p>б) Ту-22 МЗ;</p> <p>в) Ил-38;</p> <p>Ⓒ МиГ-29 К;</p> <p>Ⓓ Ка-27.</p>	3	3
	Количество баллов	<i>max 32</i>	22