

ВСЕРОССИЙСКАЯ ОЛИМПИАДА ШКОЛЬНИКОВ ПО ОСНОВАМ БЕЗОПАСНОСТИ
ЖИЗНЕДЕЯТЕЛЬНОСТИ
(РЕГИОНАЛЬНЫЙ ЭТАП)

ТЕОРЕТИЧЕСКИЙ ТУР

старшая возрастная группа (10-11 классы)

Код/шифр участника

С	Т	-	1	2		
---	---	---	---	---	--	--

Уважаемый участник Олимпиады!

Вам предстоит выполнить теоретические (письменные) и тестовые задания.

Выполнение теоретических (письменных) заданий целесообразно организовать следующим образом:

- не спеша, внимательно прочитайте задание и определите, наиболее верный и полный ответ;
- отвечая на теоретический вопрос, обдумайте и сформулируйте конкретный ответ только на поставленный вопрос;
- если Вы отвечаете на задание, связанное с заполнением таблицы или схемы, не старайтесь детализировать информацию, вписывайте только те сведения или данные, которые указаны в вопросе;
- особое внимание обратите на задания, в выполнении которых требуется выразить Ваше мнение с учетом анализа ситуации или поставленной проблемы. Внимательно и вдумчиво определите смысл вопроса и логику ответа (последовательность и точность изложения). Отвечая на вопрос, предлагайте свой вариант решения проблемы, при этом ответ должен быть кратким, но содержать необходимую информацию;

- после выполнения всех предложенных заданий еще раз удостоверьтесь в правильности выбранных Вами ответов и решений.

Выполнение тестовых заданий целесообразно организовать следующим образом:

- не спеша, внимательно прочитайте тестовое задание;
- определите, какой из предложенных вариантов ответа наиболее верный и полный;
- обведите кружком букву, соответствующую выбранному Вами ответу;
- продолжайте таким образом работу до завершения выполнения тестовых заданий;
- после выполнения всех предложенных заданий еще раз удостоверьтесь в правильности выбранных Вами ответов;
- если потребуется корректировка выбранного Вами варианта ответа, то неправильный вариант ответа зачеркните крестиком, а новый выбранный ответ обведите кружком.

Предупреждаем Вас, что:

- при оценке тестовых заданий, где необходимо определить один *правильный ответ*, 0 баллов выставляется как за неверный ответ, а также, если участником отмечены несколько ответов (в том числе правильный), или все ответы;

- при оценке тестовых заданий, где необходимо определить все *правильные ответы*, 0 баллов выставляется, если участником отмечено большее количество ответов, чем предусмотрено в задании (в том числе правильные ответы) или все ответы.

Задание теоретического тура считается выполненным, если Вы вовремя сдадите его членам жюри. **Максимальная оценка - 150 баллов.**

Желаем вам успеха!

Общая оценка результата выполнения участником
заданий теоретического тура

_____ баллов

Председатель жюри _____

МОДУЛЬ 1

ЗАДАНИЕ 1. Перечислите, каким образом можно подать сигнал бедствия в безоблачную погоду для привлечения внимания лётчика-спасателя.

- ✓ 1. Развести большой котер на открытой местности
- ✓ 2. Сигнальной ракетой.
- ✓ 3. На открытой местности выложить из подручных материалов надпись SOS (или подобную).
4. Махать руками при виде лётчика-спасателя.
5. Если в на корабле, то поднять флаг (расстелить на корабле) для просьбы о спасении.
- ✓ 6. Подавать световые сигналы в ночное время.

Оценочные баллы: максимальный – 8 баллов; фактический – 4 баллов

Подписи членов жюри _____

ЗАДАНИЕ 2. Заполните таблицу, вписав переносчиков инфекционных заболеваний человека.

Насекомые-переносчики инфекционных заболеваний	
Инфекционные заболевания	Насекомое переносчик
Энцефалит, туляремия	Клещи ✓
Малярия	Долевошнкие клопы, комары. (живут в дельтаканале и т.д.)
Чума	Блоха ✓
Дизентерия, конъюнктивит, холера	Блоха.
Сыпной тиф, возвратный тиф	Пауки

Оценочные баллы: максимальный – 6 баллов; фактический – 3 баллов

Подписи членов жюри _____

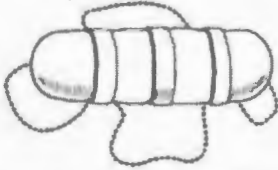




ЗАДАНИЕ 3. По описанию совершённого деяния определите вид преступной деятельности и впишите его в таблицу.

Деяние	Наименование преступления
Открытое, явное похищение чужого имущества	<u>Кража (Административное)</u>
Грубое нарушение общественного порядка, выражающее явное неуважение к обществу	<u>Нарушение спокойствия граждан.</u>
Проявление крайней нетерпимости и насилия, устрашение населения насильственными и иными противоправными действиями с целью воздействия на принятие решений органами власти	<u>Вымогательство (в основном это описывает взятие в заложники не только людей, с целью запугивать что то в обмен у государственных у родителей).</u>
Массовое выступление, сопровождающееся насилием, погромами, поджогами, уничтожением имущества, применением оружия, возможно с оказанием вооружённого сопротивления власти	<u>Митинг</u> (н.р.: Митинг люди устраивают в случае недовольства работы органов Госуд., с целью добиться правды и т.п. Также митинги устраивают сектанты). Н.р.: Митинги которые то прошли на Украине в 2014-2016гг.

Оценочные баллы: максимальный — 4 балла; фактический — балла


Подписи членов жюри _____

ЗАДАНИЕ 4. Заполните таблицу, вписав наименования табельных спасательных средств на воде и на льду

Графическое изображение	Наименование средства
	<p>Спасательный буйок (по форме круга). Используется для спасения людей из воды. Кидается в воду, человек за него держится и идет помощник.</p>
	<p>Спасательный ремень (при канатных на сдерживании веревки, он надевается в основном используют дайверы).</p>
	<p>Спасательный круг (в основном используется на кораблях, при попадании человека за борт).</p>
	<p>Канат (в основном тал) (Используется для спасения людей с берега, с корабля). Порядок действий: Может быть движение спасатель прицепляется и подает концы веревки точно к утопающему, утопающий ловит и надевает ее на себя под руки на грудь и держится).</p>
	<p>Спасательная лестница с веревкой (в основном используется для доставания человека из под тонкого льда).</p>

Оценочные баллы: максимальный — 10 баллов; фактический — 6 баллов

Подписи членов жюри



ЗАДАНИЕ 5. Определите по описанию внешних признаков из приведённых примеров вид пожара и впишите в таблицу соответствующую букву.

Виды пожара:

- а) внутренний открытый;
- б) открытый;
- в) скрытый;
- г) внутренний скрытый;
- д) наружный;
- е) внутренний.

Внешние признаки пожара	Вид пожара (буква)
Из окон здания идёт дым, огня не видно	з —
Из окон здания идёт дым, видно пламя	д —
Горит штабель лесоматериалов на открытой площадке	с ✓
Из окон здания идёт небольшой дым; внутри здания огня не видно, но концентрация дыма очень высока	в —
Из окон здания идёт дым, внутри здания горит мебель	е —

Оценочные баллы: максимальный — 10 баллов; фактический — 2 баллов

Подписи членов жюри _____


ЗАДАНИЕ 6. Степень опасности химических веществ связана с путями их попадания в организм человека. Их подразделяют на 6 групп по принципу проникновения.

Перечислите их.

1. Воздушно-капельный (хим. вещество попадает в организм через органы дыхания).
2. Кожно-покровный (хим. вещ. попадает в орг. чел. через кожные покровы).
3. Внутренний (хим. вещ. попадают в орг. ~~чел.~~ через рот, т.е. вместе с пищей).
4. Трансмиссионный (через кровь) - хим. вещ. в орг. чел. попадают через кровь, н.р.: со старыми шприцами, капельницами, ^{укусом} комарами).
5. Половой. (Если один чел. заражен хим. веществом, то через половую связь можно заразить партнера).

Оценочные баллы: максимальный – 12 баллов; фактический 8 баллов

Подписи членов жюри



ЗАДАНИЕ 7. В промышленности, сельском хозяйстве, быту очень широкое применение находят такие АХОВ, как хлор и аммиак. Из содержания таблицы выберите признаки и свойства, характеризующие хлор и аммиак, их применение и воздействия на организм, и соотнесите их с помощью стрелок.



Оценочные баллы: максимальный 13 баллов; фактический 9 баллов

Подписи членов жюри

[Handwritten signatures]

ЗАДАНИЕ 8. Международное гуманитарное право – это совокупность норм, основанных на принципах гуманности и направленных на ограничение средств, и методов ведения войны и на защиту жертв вооруженных конфликтов. Перечислите лица, находящиеся под защитой международного гуманитарного права.

✓ 1. Больные

2. Раненные

3. Мехицины и дети

4. Старики.

5. Инвалиды.

6. Корабли и их экипажи с поднятыми белыми флагами (в этом случае ~~лучше~~ ~~лучше~~ кружок или палочки) противник под действием МГП должен взять пострадавших на свое судно и доставить их на берег).

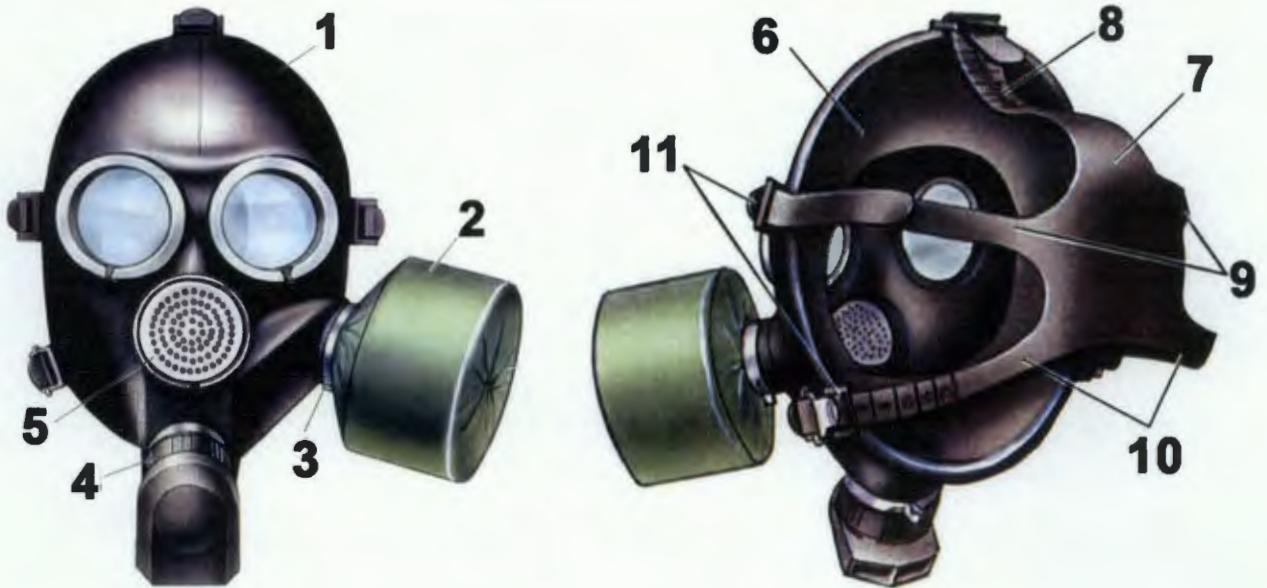
✓ 7. Гражданское население.

8. Мед. работники.

Оценочные баллы: максимальный – 7 баллов; фактический – 3 баллов

Подписи членов жюри

ЗАДАНИЕ 9. Определите тип и марку изображенного на рисунке противогаза. Укажите названия составных частей противогаза, отмеченных цифрами.



Тип противогаза - для защиты от хим. отравляющих веществ, биологических ОВ.

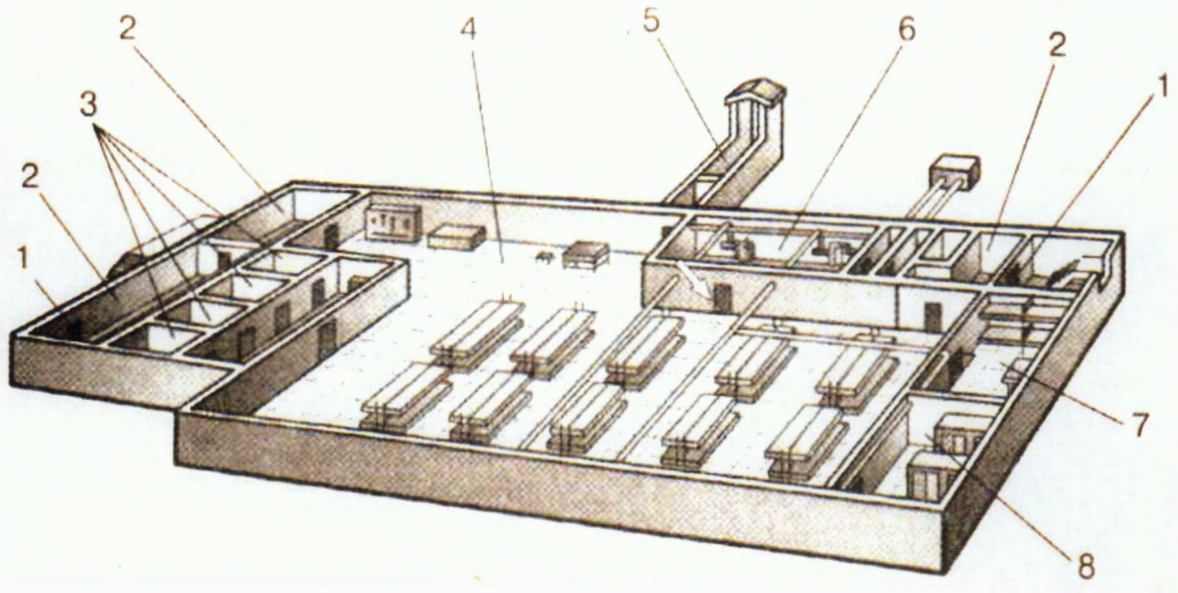
Марка противогаза -

1	Маска
2	Фильтр.
3	Холестер упираетелев (одепелелвалет палкое прилелганел
4	Обратный клапан (Позволяет вести разговоры и выдыхать
5	Обратный клапан (воздух внутрь маски не проходит, но выдыхать
6	Шлем маска (каждобная внутренняя часть).
7	Замыоочная стеллка.
8	Мето удлинелкел на челке (розмерная плалуодка).
9	Средняя (весочная) удлинелкелельная челлка
10	Нелкелая удлинелкелельная челлка.
11	Фелкелатары удлинелкелел.

Оценочные баллы: максимальный - 13 баллов; фактический 3 баллов

Подписи членов жюри

ЗАДАНИЕ 10. На рисунке изображен эскиз защитного сооружения ГО. Назовите тип защитного сооружения и перечислите его элементы, отмеченные цифрами.



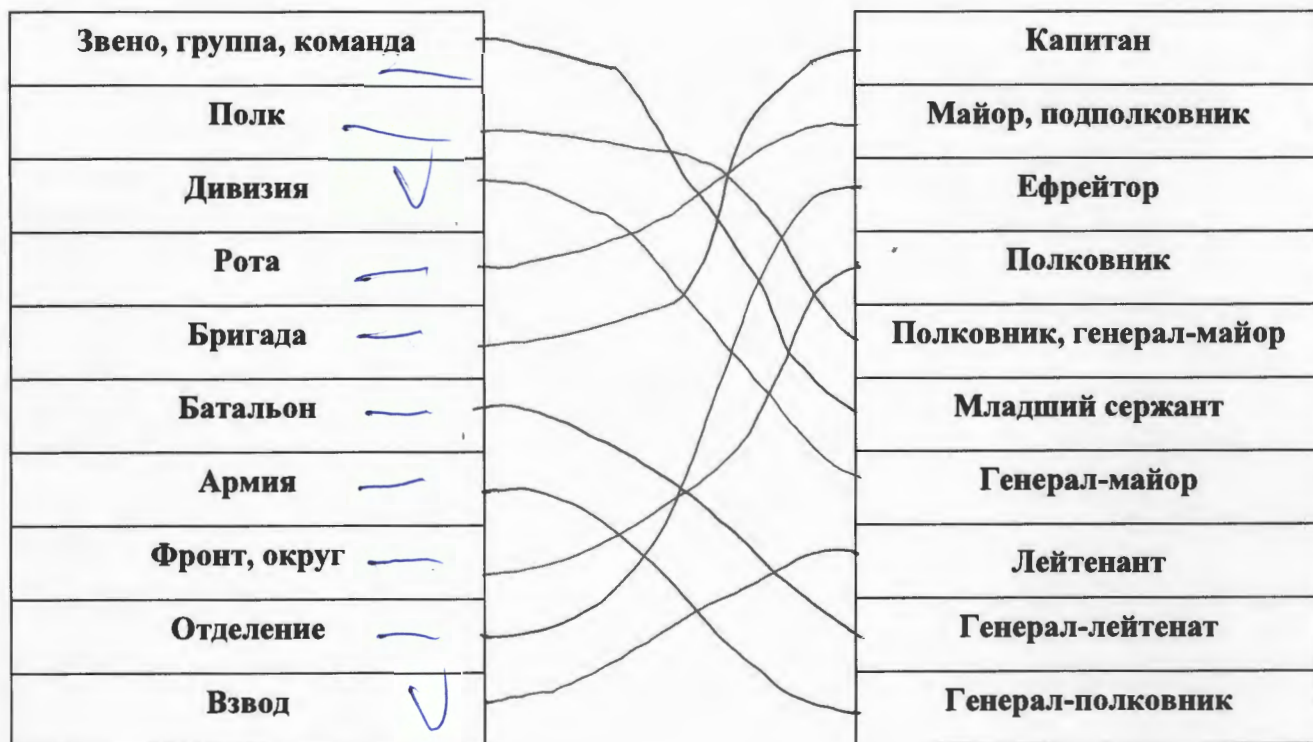
Тип защитного сооружения - ПРУ (противорадиационное укрытие).

1	Кабинет для оценки происходящего за пределами ЗС.
2	Предварительный коридор для входа в кабинет оценки проис.
3	Отсеки для хранения
4	Окловный зал (где все ^{ожидают.} находится).
5	Вход (предварительный коридор для входа).
6	Кабинет для ^{или для поддержания} связи.
7	Отсек для измерения внешних показателей внутренней среды.
8	Кабинет для медикаментов.
	Кабинет для хранения информации и записей.

Оценочные баллы: максимальный - 9 баллов; фактический - 3 баллов

Подписи членов жюри _____

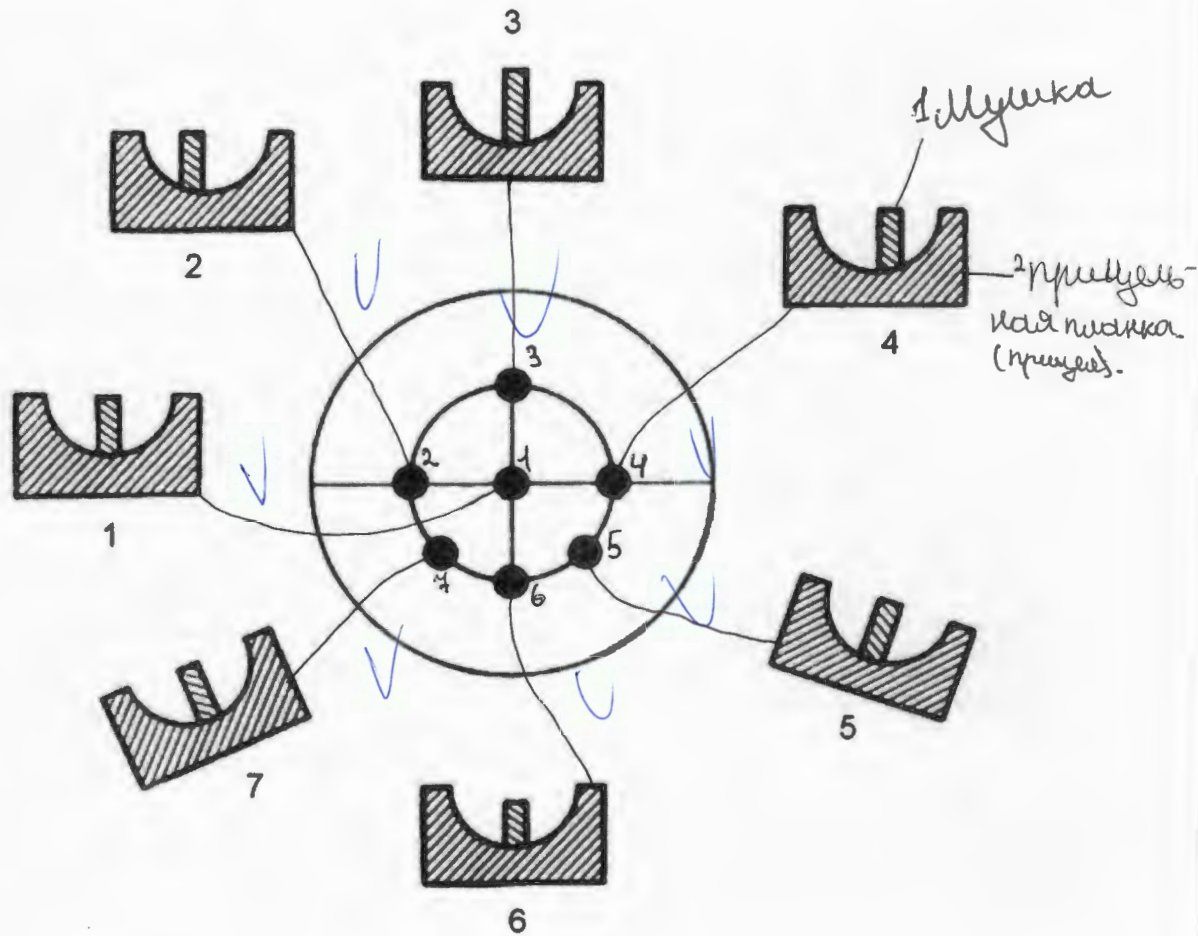
ЗАДАНИЕ 11. Укажите стрелками соответствие между названиями воинских формирований (левый столбец) и уровнем командования (правый столбец).



Оценочные баллы: максимальный – 10 баллов; фактический – 2 балла

Подписи членов жюри

ЗАДАНИЕ 12. Рассмотрите рисунок и напишите, что он иллюстрирует. Подпишите названия отдельных элементов рисунка 1-7. Укажите стрелками соответствие между этими элементами 1-7 и точками, изображенными на рисунке в центре круга.



Рисунки 1-7 иллюстрируют пружину.





Я ответил на рисунок 4. под цифрами: 1. Шпунчик.
2. Пружина.

Оценочные баллы: максимальный - 16 баллов; фактический - 7 баллов

Подписи членов жюри

МОДУЛЬ 2
Тестовые задания

№ п/п	Тестовые задания	Макс. балл	Кол-во набранных баллов
<i>Определите один правильный ответ</i>			
1.	<p>При организации однодневного турпохода рекомендуется выбрать до конечной точки маршрута расстояние не более:</p> <p>а) 10 км в одну сторону; б) 15 км в одну сторону; в) 20 км в одну сторону; г) 25 км в одну сторону.</p>	1	1
2.	<p>Основным источником энергии для человека являются:</p> <p>а) жиры; б) белки; в) витамины; г) углеводы.</p>	1	1
3.	<p>Лунные сутки делятся:</p> <p>а) 15 земных суток; б) 20 земных суток; в) 25 земных суток; г) 29 земных суток.</p>	1	1
4.	<p>Элемент дороги, предназначенный для движения безрельсовых транспортных средств, называется:</p> <p>а) дорога; б) проезжая часть; в) магистраль; г) трасса.</p>	1	1
5.	<p>К кишечным инфекциям относят:</p> <p>а) чуму; б) столбняк; в) дизентерию; г) дифтерию.</p>	1	1

6.	<p>В случае аварийного приводнения самолета спасательные жилеты приводятся в рабочее состояние:</p> <p>а) после покидания салона самолета;</p> <p>б) после соприкосновения самолета с поверхностью воды;</p> <p><input checked="" type="radio"/> в) до соприкосновения самолета с поверхностью воды;</p> <p>г) перед выходом из салона самолета.</p>	1	
7.	<p>Завладение чужим имуществом путем обмана или подлога называется:</p> <p>а) кража;</p> <p><input checked="" type="radio"/> б) мошенничество;</p> <p>в) грабеж;</p> <p>г) вымогательство.</p>	1	
8.	<p>Умышленные деяния, за совершение которых максимальное наказание, предусмотренное УК РФ не превышает 10 лет лишения свободы относится к:</p> <p>а) преступлениям небольшой тяжести;</p> <p>б) преступлениям средней тяжести;</p> <p><input checked="" type="radio"/> в) тяжким преступлениям;</p> <p>г) особо тяжким преступлениям.</p>	1	
9.	<p>Химически опасные объекты строятся:</p> <p>а) на большом расстоянии друг от друга;</p> <p>б) с учетом розы ветров данной местности;</p> <p><input checked="" type="radio"/> в) на безопасном расстоянии от рек, водоемов, морского побережья и подземных водоносных слоев;</p> <p>г) с наветренной стороны жилых зон.</p>	1	
10.	<p>Самым многочисленным по боевому составу видом Вооруженных Сил Российской Федерации являются:</p> <p><input checked="" type="radio"/> а) Сухопутные войска;</p> <p>б) Военно-морской флот;</p> <p>в) Воздушно-космические силы;</p> <p>г) Мотострелковые войска.</p>	1	
11.	<p>Обязанности военнослужащих подразделяются на:</p> <p><input checked="" type="radio"/> а) общие, должностные, боевые и специальные;</p> <p>б) общие, должностные и специальные;</p> <p>в) общие, боевые и специальные;</p> <p>г) общие и специальные.</p>	1	

Определите все правильные ответы

12.	<p>Кроме никотина табачный дым содержит:</p> <p>а) синильную кислоту;</p> <p>б) соляную кислоту;</p> <p><input checked="" type="radio"/> в) аммиак;</p> <p>г) соединения хлора;</p> <p><input checked="" type="radio"/> д) водород.</p>	2	1
13.	<p>Управлять квадроциклом, согласно ПДД, можно:</p> <p><input checked="" type="radio"/> а) с 16 лет;</p> <p>б) имея права категории А, так как квадроцикл приравнен к мотоциклу;</p> <p>в) с 18 лет;</p> <p><input checked="" type="radio"/> г) имея удостоверение тракториста-машиниста, так как квадроцикл приравнен к самоходной машине;</p> <p>д) имея водительское удостоверение любой категории.</p>	2	1
14.	<p>К запрещающим дорожным знакам относятся:</p> <p><input checked="" type="radio"/> а) таможня;</p> <p><input checked="" type="radio"/> б) опасность;</p> <p>в) железнодорожный переезд без шлагбаума;</p> <p>г) уступите дорогу.</p>	2	2
15.	<p>К заболеваниям, сопровождающимся инфекцией дыхательных путей относятся:</p> <p><input checked="" type="radio"/> а) грипп;</p> <p>б) чума;</p> <p><input checked="" type="radio"/> в) туляремия;</p> <p>г) дифтерия;</p> <p>д) корь;</p> <p><input checked="" type="radio"/> е) малярия.</p>	3	1
16.	<p>К индивидуальному снаряжению туриста в коллективном походе относятся:</p> <p>а) топор;</p> <p><input checked="" type="radio"/> б) туристский коврик;</p> <p><input checked="" type="radio"/> в) спальный мешок;</p> <p>г) палатка.</p>	2	2

17.	<p>В состав танкового экипажа танка Т-80 входят:</p> <p><input checked="" type="radio"/> а) водитель;</p> <p>б) заряжающий;</p> <p>в) наводчик;</p> <p><input type="radio"/> г) стрелок-радист;</p> <p><input type="radio"/> д) механик-водитель.</p>	2	1
18.	<p>По длительности проведения эвакуация может быть:</p> <p><input type="radio"/> а) временной;</p> <p>б) постоянной;</p> <p>в) среднесрочной;</p> <p>г) долгосрочной;</p> <p><input type="radio"/> д) короткой;</p> <p><input type="radio"/> е) продолжительной.</p>	3	2
19.	<p>Проблесковый маячок желтого или оранжевого цвета означает:</p> <p><input type="radio"/> а) перевозку крупногабаритных грузов, взрывчатых, легковоспламеняющихся, радиоактивных веществ;</p> <p><input type="radio"/> б) перевозку групп детей; <i>Ввели в 2018 году, установка еще только производится на ТС.</i></p> <p><input type="radio"/> в) выполнение работ по строительству, ремонту или содержанию дорог;</p> <p>г) не является специальным сигналом</p>	2	2
20.	<p>К корабельной (палубной) авиации ВМФ относятся следующие типы самолетов и вертолетов:</p> <p><input type="radio"/> а) Су-33;</p> <p>б) Ту-22 М3;</p> <p><input type="radio"/> в) Ил-38;</p> <p><input type="radio"/> г) Миг-29 К;</p> <p>д) Ка-27.</p>	3	2
	Количество баллов	<i>max 32</i>	23