

**Муниципальный этап**

**Всероссийской олимпиады школьников  
2018- 2019 уч. г.**

**ГЕОГРАФИЯ**

**9 класс**

**Время на выполнение заданий – 180 минут**

**Максимальное количество баллов – 194**

(При выполнении заданий можно использовать непрограммируемый калькулятор и атласы издательства «Дрофа» для 7; 8, 9 классов 2016, 2017, 2018 гг. выпуска)

<b>Район</b>		<b>Фамилия</b>	
<b>Населенный пункт</b>		<b>Имя</b>	
<b>Школа</b>		<b>Отчество</b>	
<b>Класс</b>		<b>Итоговый балл</b>	
		<b>Рейтинг</b>	

**Время выполнения работы – 3 часа (теоретический раунд (в письменной форме) – 2 астрономических часа, тестовый раунд (в письменной форме) – 1 астрономический час).**

**Все ответы заносятся в бланк ответов**

## БЛАНК ОТВЕТОВ

### Часть I Тестовый раунд - 32 балла

Выберите правильные ответы из предложенных вариантов (задания 1-7; 11-12; 14-20)  
Установите соответствие (задания 8-10; 13)

№№ заданий									
1	2	3	4	5	6	7	8	9	10
11	12	13	14	15	16	17	18	19	20

### Часть II Теоретический раунд – 162 балла

Дайте ответы на задания

№№ заданий
------------

<b>1</b>	Численный масштаб	
	Именованный масштаб	
	Расчёт	
<b>2</b>	Максимальная высота	
	Минимальная высота	
<b>3</b>	Географические координаты точки с минимальной высотой	
<b>4</b>	Азимут	
<b>5</b>	Условный знак в квадрате 91/73	
	Формы рельефа	
	Уникальный объект природы	
<b>6</b>	Субъект РФ	
	Климатический пояс	
	Тип климата	
<b>7</b>	Река с наибольшей скоростью	
	Скорость этой реки	
<b>8</b>	Водотоки относятся к бассейну реки	
	Преобладающее питание	
	Происхождение озёр	

	<b>Народ</b>	<b>Языковая группа</b>	<b>Религия</b>	<b>Субъект РФ с самой большой численностью населения</b>	<b>Географический объект-подсказка</b>
<b>A</b>					
<b>B</b>					
<b>C</b>					
<b>D</b>					
<b>E</b>					
<b>F</b>					

№ п/п	Город	Природная зона	Зональный тип почв	Характерная растительность	Субъект РФ, экономический район	Титульные народы
1						
2						
3						
4						
5						
6						
7						

Дополнительные вопросы:

1. Название магистрали \_\_\_\_\_

2. \_\_\_\_\_ Реки, \_\_\_\_\_ которые \_\_\_\_\_ пересекают магистраль \_\_\_\_\_

3. Населенные пункты Тюменской области, расположенные на магистрали \_\_\_\_\_

4. Уникальность лесных ландшафтов вокруг конечного пункта назначения. Наиболее известные виды растений и животных (не менее 5), которые являются эндемиками этого района \_\_\_\_\_

\_\_\_\_\_

\_\_\_\_\_

\_\_\_\_\_

\_\_\_\_\_

Субъект РФ	Столицы	Буквы и признаки
		Х
Государства	Столицы	Признаки
		Признаки:
		Признаки:

А) Болото -

Б) Основные факторы интенсивного образования болот Тюменской области:

В) Роль болот в природе и жизни человека нашей области:


Значение болот	
в природе	в жизни и хозяйственной деятельности человека
1.	1.
2.	2.
3.	3.
.....	.....

Г) «Осушение болот» -это


Проводят ли осушение в Вашей местности?

Д) Изменения в природно-территориальном комплексе болота после проведения работ по его осушению:


## Часть I Тестовый раунд

1. Объектом изучения какой науки являются плёсы, перекаты, осерёдки?  
а) геологии  
б) гляциологии  
в) гидрологии  
г) метеорологии
- 1 балл**
2. Выберите территорию, где продолжительность ночи в течение года будет меняться больше всего.  
а) Мадагаскар  
б) Баффинова Земля  
в) Новая Гвинея  
г) Ньюфаундленд
- 1 балл**
3. Выберите правильное соответствие: путешественник – его открытие.  
а) Васко-да-Гама – побережье Бразилии  
б) Ф. Магеллан – Багамские острова  
в) Дж. Кук – Гавайские острова  
г) Д. Ливингстон – озеро Чад
- 1 балл**
4. Определите масштаб карты, если расстояние между двумя точками на местности равно 4 км, а на карте – 20 см.  
а) 1:10000                      б) 1:80000                      в) 1:20000                      г) 1:100
- 1 балл**
5. Выберите ледниковую форму рельефа:
- 


А) вулкан



Б) морена



В) ущелье



Г) каньон
- 1 балл**
6. Выберите верное утверждение.  
а) Атмосферное давление зависит только от высоты местности.  
б) Чем больше угол падения солнечных лучей, тем ниже температура воздуха.  
в) Постоянные ветры, которые дуют от тропиков в сторону экватора, называют муссонами.  
г) Минимальная температура воздуха в течение суток, как правило, наблюдается на рассвете.
- 1 балл**
7. Выберите верное утверждение.  
а) Северо-Атлантическое течение является ветровым по происхождению.  
б) Самый тёплый из океанов – Атлантический.  
в) Солёность океана в экваториальных широтах значительно выше, чем в тропических.  
г) Сомалийское течение тёплое, так как оно несёт воду от экватора.
- 1 балл**



8. Установите соответствие: вулкан – страна, на территории которой он расположен:



А) Килауэа



Б) Ньирагонго



В) Попокате-  
петль



Г) Семеру

- 1) Демократическая Республика Конго 2) Республика Индонезия  
3) Мексиканские Соединенные Штаты 4) Соединенные Штаты Америки

4 балла

9. Установите соответствия: вид семейства кошачих – его ареал



А) оцелот



Б) ягуар



В) манул



Г) ирбис

- 1) Распространён в Центральной и Южной Америке. Основные местообитания связаны с влажными тропическими лесами, но встречается и в засушливых областях, покрытых ксерофитной растительностью.  
2) Распространён в степях Центральной и Средней Азии, от Южного Закавказья и западного Ирана до Забайкалья, Монголии и Северо-Западного Китая.  
3) Распространён в тропических лесах Центральной и Южной Америки. Избегает открытых пространств.  
4) азиатская кошка, обитающая в горных районах Гиндукуша, Памира, Тянь-Шаня, Каракорума, Кашмира, Куньлуня, Алтая, Саян, Танну-Ола и Гималаях.

4 балла

10. Установите соответствия: религия – государство, большая часть населения ее исповедует

- А) синтоизм Б) буддизм В) ислам Г) католицизм

- 1) Мьянма 2) Бруней 3) Филиппины 4) Япония

4 балла

11. При строительстве газопровода «Северный поток - 2» предполагается использовать высокие экологические стандарты. В то же время его участок пройдет по территории Кургальского заказника. В результате может пострадать этот вид животных:



А) песец



Б) белый мед-  
ведь




В) балтийская  
кольчатая  
нерпа



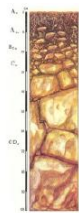
Г) гага-  
гребенушка

1 балл

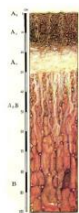
12. Выберите тип почв, для которого характерна реакция вскипания при взаимодействии с соляной кислотой:




А) торфяно-глеевые



Б) дерново-карбонатные



В) дерново-подзолистые



Г) серые лесные

1 балл

13. Установите соответствие: горная система – ее абсолютная высота.

А) Кавказские горы Б) Алтайские горы В) Уральские горы Г) Крымские горы

1) 1895 м 2) 4509 м 3) 1545 м 4) 5642 м

4 балла

14. Выберите верное соответствие: форма рельефа – возраст складчатости.

- а) Западный Саян – герцинская складчатость
- б) Сихотэ-Алинь – мезозойская складчатость
- в) Кавказ – каледонская складчатость
- г) Алтай – байкальская складчатость

1 балл

15. Выберите **неверное** утверждение о географическом положении России.

- а) Все крайние точки России имеют северную широту и восточную долготу.
- б) Россию омывают 12 морей трёх океанов Земли.
- в) 3/4 территории страны располагается в Азии.
- г) Россия – лидер по количеству пограничных стран.

1 балл

16. Выберите территорию с наиболее древним возрастом земной коры из предложенных вариантов.

- а) Верхоянский хребет
- б) Уральские горы
- в) Восточный Саян
- г) Кавказские горы

1 балл

17. Выберите вариант, где правильно указаны географические объекты, расположенные в западном секторе государственной границы России.

- а) Финский залив, река Нарва, Гданьский залив, Перекопский перешеек
- б) Гора Базардюзю, река Псоу, река Урал, река Северский Донец
- в) Кунаширский пролив, река Аргунь, мыс Дежнёва, Берингов пролив
- г) архипелаг Новая Земля, мыс Челюскин, Шантарские острова, остров Врангеля

1 балл

18. Выберите верное соответствие: территория – тип климата

- а) Ставропольская возвышенность – субтропический климат
- б) Приволжская возвышенность – высокогорный климат
- в) Становое нагорье – умеренный резко континентальный климат
- г) Кольский полуостров – арктический климат

1 балл

**19.** Выберите верное соответствие: языковая семья – народ – преобладающее вероисповедание верующей части населения.

- а) Северокавказская – осетины – православие
- б) Алтайская – хакасы – православие
- в) Уральско-Юкагирская – удмурты – ислам
- г) Северокавказская – кумыки – буддизм

**1 балл**

**20.** Укажите город, который не имеет статуса «город-миллионер».

- а) Волгоград
- б) Самара
- в) Саратов
- г) Казань

**1 балл**

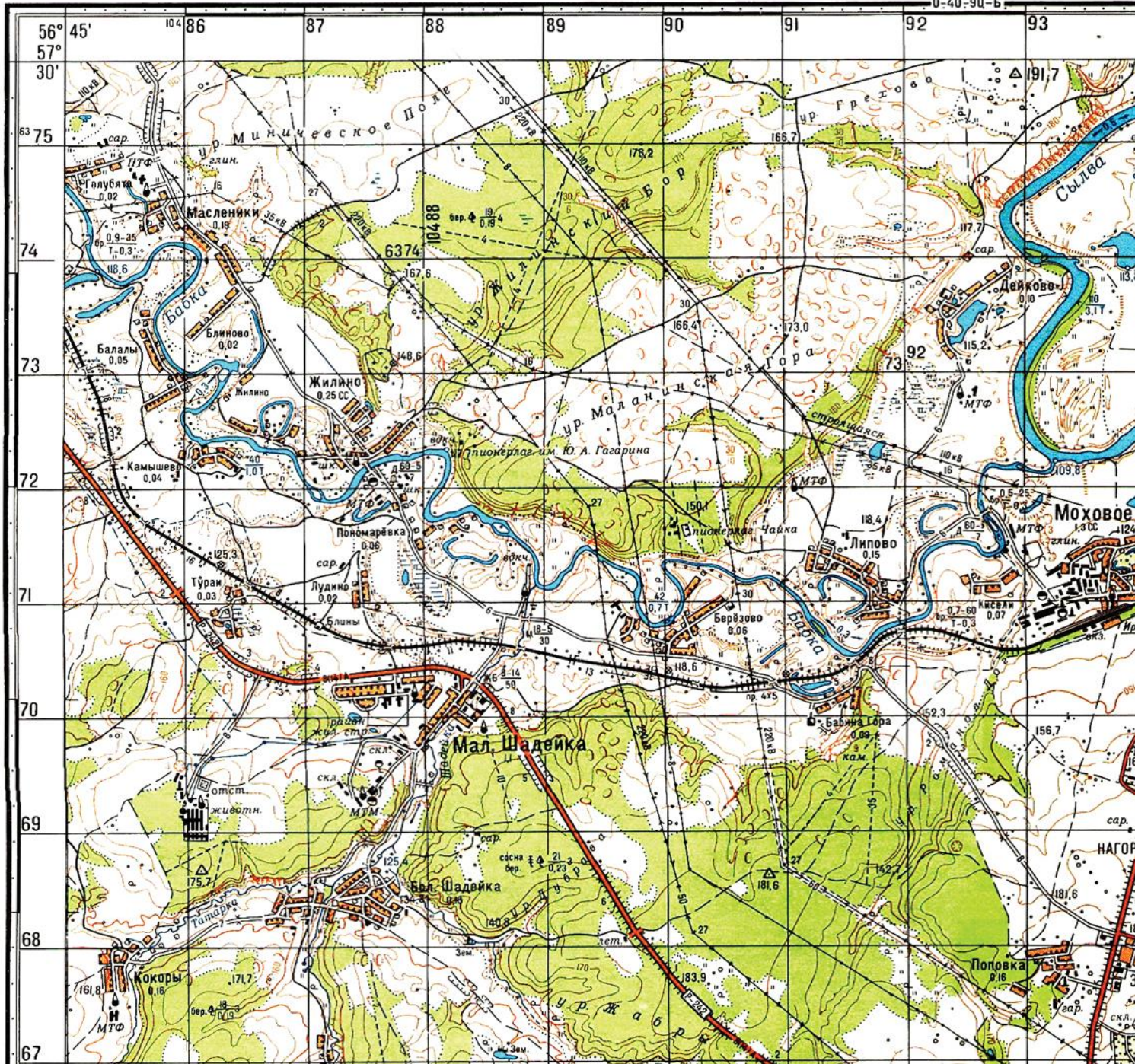
## **Часть II Теоретический раунд**

**Задание 1.** Для ответа на следующие вопросы используйте карту, которая прилагается к заданию. Ответы занесите в бланк.

- 1.** Определите численный и именованный масштаб карты. В бланке ответов обязательно приведите расчёт!
- 2.** Определите максимальную и минимальную высоты, указанные на карте.
- 3.** Определите географические координаты точки с минимальной высотой, указанной на карте.
- 4.** Определите истинный азимут, по которому была построена линия электропередач из квартала 86/75 в квартал 88/72.
- 5.** Что означают условные знаки в квадрате 91/73?  
Назовите ещё одну форму рельефа, созданную тем же процессом.  
Какой уникальный объект природы располагается в нескольких километрах к востоку от этой территории?
- 6.** Определите, в состав какого субъекта Российской Федерации входит данная территория. В пределах какого климатического пояса и типа климата она располагается?
- 7.** Скорость течения какой из рек наибольшая? Подтвердите данными с карты.
- 8.** К бассейну какой реки относятся водотоки этой территории? Какой у них преобладающий тип питания? Какое происхождение у озёр в долине реки Бабка?

**40 баллов**





**Задание 2. Определите народы России.**

В таблице № 1 представлены данные Всероссийской переписи населения. Подсказкой будут служить шесть географических объектов: **Днепр, Лена, Кавказ, Уральские горы, Тянь-Шань, Полесье**. Каждый из этих географических объектов неразрывно связан с каким-либо из шести народов.

Определите, каким народам соответствуют данные из таблицы № 1 (А–F), и напишите субъект РФ, где проживает самое большое количество представителей этих народов. **Ответы занесите в бланк.**

Укажите языковую группу и основную религию для каждого народа. Примечательно, что языки рассматриваемых в задании народов относятся только к двум языковым семьям (по 3 народа для каждой языковой семьи). В последнюю колонку впишите географический объект-подсказку. Обратите внимание на то, что в таблице представлены данные Всероссийской переписи населения, которая прошла в 2010 году, субъекты, вошедшие в состав России позднее, в таблице не учитываются.

**Таблица № 1 (данные Всероссийской переписи 2010 года)**

<b>Народ А</b>			<b>Народ В</b>		
<b>общая численность в России – 521 тыс. чел.</b>			<b>общая численность в России – 647 тыс. чел.</b>		
<b>1</b>		<b>39,2</b>	<b>1</b>		<b>149,4</b>
<b>2</b>	Санкт-Петербург	<b>38,1</b>	<b>2</b>	Оренбургская область	<b>120,3</b>
<b>3</b>	Калининградская область	<b>32,5</b>	<b>3</b>	Омская область	<b>78,3</b>
<b>4</b>	Московская область	<b>31,7</b>	<b>4</b>	Саратовская область	<b>76</b>
<b>5</b>	Республика Карелия	<b>23,3</b>	<b>5</b>	Волгоградская область	<b>46,2</b>
<b>6</b>	Ленинградская область	<b>16,8</b>	<b>6</b>	Челябинская область	<b>35,3</b>
<b>Народ С</b>			<b>Народ D</b>		
<b>общая численность в России – 529 тыс. чел.</b>			<b>общая численность в России – 1585 тыс. чел.</b>		
<b>1</b>		<b>460</b>	<b>1</b>		<b>1172</b>
<b>2</b>	Москва	<b>11,3</b>	<b>2</b>	Челябинская область	<b>162,5</b>
<b>3</b>	Кабардино-Балкарская республика	<b>9,1</b>	<b>3</b>	Оренбургская область	<b>46,7</b>
<b>4</b>	Ставропольский край	<b>8</b>	<b>4</b>	Пермский край	<b>32,7</b>
<b>5</b>	Краснодарский край	<b>4,5</b>	<b>5</b>	Свердловская область	<b>31,2</b>
<b>6</b>	Московская область	<b>3,4</b>	<b>6</b>	Ханты-Мансийский автономный округ	<b>25,4</b>
<b>Народ E</b>			<b>Народ F</b>		
<b>общая численность в России – 478 тыс. чел.</b>			<b>общая численность в России – 1928 тыс. чел.</b>		
<b>1</b>		<b>466,5</b>	<b>1</b>		<b>154,1</b>
<b>2</b>	Красноярский край	<b>1,5</b>	<b>2</b>	Московская область	<b>119,5</b>
<b>3</b>	Москва	<b>1,5</b>	<b>3</b>	Ханты-Мансийский автономный округ	<b>91,3</b>
<b>4</b>	Хабаровский край	<b>1,4</b>	<b>4</b>	Краснодарский край	<b>83,7</b>
<b>5</b>	Иркутская область	<b>0,9</b>	<b>5</b>	Ростовская область	<b>77,8</b>
<b>6</b>	Приморский край	<b>0,8</b>	<b>6</b>	Челябинская область	<b>50,1</b>

**30 баллов**

**Задание 3.**

Великий Сибирский Путь — железная дорога через Евразию, соединяющая Москву и крупнейшие восточно-сибирские и дальневосточные промышленные города России. Длина магистрали 9288,2 км — это самая длинная железная дорога в мире. Высшая точка пути — Яблоновый перевал (1019 м над уровнем моря). Исторически магистралью является лишь восточная часть, от Челябинска (Южный Урал) до Владивостока. Её длина — около 7 тыс. км. Именно этот участок был построен с 1891 по 1916 годы. В настоящее время магистраль надёжно соединяет Европейскую часть, Урал, Сибирь и Дальний Восток России, а говоря шире — российские западные и южные порты, а также железнодорожные выходы в

Европу, с одной стороны, с тихоокеанскими портами и железнодорожными выходами в Азию.

Представьте себе, что Вы путешествуете по этой магистрали с запада на восток. Расставьте города, в которых Вы побываете по ходу движения, назовите особенности природы, в которых расположены эти города. К каким субъектам Российской Федерации и экономическим районам они относятся? Назовите титульные народы, которые тут проживают? Города, в которых Вы побываете: Челябинск, Канск, Улан-Удэ, Новосибирск, Владивосток, Хабаровск, Ангарск.

**Ответы занесите в бланк.**

№ п/п	Город	Природная зона	Зональный тип почв	Характерная растительность	Субъект РФ, экономический район	Титульные народы
1						
2						
3						
4						
5						
6						
7						

Дополнительные вопросы:

1. Укажите **в бланке ответов** название магистрали.
2. Перечислите реки, которые пересекают магистраль.
3. Перечислите населенные пункты Тюменской области, расположенные на магистрали.

4. В чем состоит уникальность лесных ландшафтов вокруг конечного пункта назначения? Назовите наиболее известные виды растений и животных (не менее 5), которые являются эндемиками этого района.

**40 баллов**

**Задание 4.** Этот субъект Российской Федерации (X) граничит с шестью административными образованиями, два из которых (Y и Z) сейчас являются суверенными государствами. Их история тесно связана с историей Российской империи и СССР. Для субъектов, которые сейчас входят в состав РФ, предложены 8 признаков (по 2 на каждый субъект), которые необходимо объяснить, сгруппировать и назвать субъекты со столицами.

**Занесите ответы в бланк**

Примечание: признак не может быть использован одновременно для нескольких субъектов. Для государств Y и Z предложите аналогичные характерные признаки.

Субъект РФ	Столицы	Буквы и признаки
		X

<b>Государства</b>	<b>Столицы</b>	<b>Признаки</b>
		Признаки:
		Признаки:

**Признаки:**

- А) На территории этого субъекта находится один из самых древних памятников русской архитектуры.
- Б) В чемпионате Российской супер-лиги выступает хоккейная команда, представляющая один из крупнейших комбинатов черной металлургии.
- В) В 112 км от «главного» города находится посёлок городского типа, куда ежегодно 6 июня приезжают тысячи туристов.
- Г) В конце 70 - х годов XX века группа «Песняры» исполняла песню про столицу этого субъекта, после чего она стала всесоюзным шлягером. Название столицы произошло от старинного русского слова «вол» (домашний скот).
- Д) На территории субъекта находятся два крупных целлюлозно-бумажных комбината.
- Е) «Главный» город субъекта находится на берегу озера, по которому проходил в древности важный торговый путь.
- Ж) Столица субъекта живописно расположена на слиянии двух рек.
- З) Территория субъекта южной оконечностью выходит к двум крупнейшим озёрам региона

**28 баллов**

**Задание 5.** Известно, что Западно-Сибирская равнина и Тюменская область, в частности, относятся к наиболее заболоченным районам не только России, но и всего мира. Более 30% ее территории занято болотами. Выполните задания и **перенесите ответы в бланк.**

- А) Дайте определение понятию «болото».

Болото -

---



---



---

- Б) Перечислите основные факторы интенсивного образования болот Тюменской области:

---



---

---

В) Заполните **в бланке ответов** таблицу, отражающую роль болот в природе и жизни человека нашей области:

Значение болот	
в природе	в жизни и хозяйственной деятельности человека
1.	1.
2.	2.
3.	3.
.....	.....

Г) Что означает понятие «осушение болот» и проводят ли его в Вашей местности?

---

---

---

Д) Какие изменения произошли в природно-территориальном комплексе болота после проведения работ по его осушению?

---

---

---

---

---

**24 балла**