

**Муниципальный этап  
Всероссийской олимпиады школьников  
2018-2019 учебный год  
ТЕХНОЛОГИЯ  
«Культура дома и декоративно-прикладное творчество»  
теоретический тур  
7 классы**

Уважаемый участник!

Теоретические задания первого тура состоят из 19 заданий и 1 творческого задания. Задача участника - внимательно ознакомиться с предложенными заданиями и выполнить их в строгом соответствии с формулировкой.

В заданиях с 1 по 19 предложены тесты с одним или несколькими правильными ответами, теоретические вопросы, на которые следует дать исчерпывающий ответ, установить соответствие. Каждый правильный ответ оценивается в 1 балл. Задание считается выполненным, если в нем отмечены все правильные ответы и не отмечено ни одного неправильного ответа. Если задание выполнено неправильно или только частично – ноль баллов. Все ответы и отметки записываются на Листе ответов на задания.

Задание 20 выполняется на листе задания и оценивается в 6 баллов: по 1 баллу за 1 и 2 вопросы и за каждый пункт инструкционной карты. Правильность ответов на творческое задание и вопросы свободной формулировки оцениваются по общему смыслу и ключевым словам.

Максимальное количество баллов: **25 баллов.**

Время выполнения заданий: **90 минут**

1. *Назовите*

**В летописях упоминается, что данный горячий напиток от хворей готовился на Руси уже в XII веке. Знахари называли его боровым зельем, поскольку напиток отличался сильным целебным воздействием. Другим названием напитка является «копорский чай». В XIX столетии его экспорт стал очень активным – он занимал второе место, уступая лишь экспорту ревеня. Можно предположить, что его название возникло, чтобы отличить русский чай от китайского, который появился в России в XVII веке.**

Это \_\_\_\_\_.

2. *Допишите*

**Это растение выращивается практически на каждом огороде. Родиной этого растения считается Америка. Другое название придумали итальянцы и в переводе с итальянского оно означает «золотое яблоко». Во всём мире плоды этого растения в обиходе называют овощами, а в научной литературе ботаники - ягодами.**

Это \_\_\_\_\_, или \_\_\_\_\_.





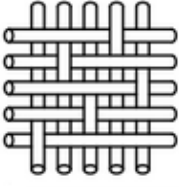

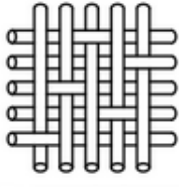

3. Установите соответствие (например, 1-а)

Вид посуды	Срок службы
1. Эмалированная посуда	а) занимает 47% рынка всей продаваемой посуды
2. Алюминиевая посуда	б) имеет короткий срок службы
3. Посуда из нержавеющей стали	в) запрещена в Европе

4. Назовите степень свежести яиц, заполните таблицу

Определение свежести яиц		
		
а) .....	б) .....	в) .....

5. Установите соответствие (например, 1-а)

Виды переплетений тканей			
 	 	 	 
1	2	3	3

а) атласное,      б) полотняное,      в) саржевое,      г) сатиновое

6. Назовите волокно

Ткани с присутствием данного волокна применяются при изготовлении одежды облегчающего силуэта. Такая одежда кроится с небольшими припусками, не стесняет движений, хорошо растягивается, мало мнётся.

Это волокно \_\_\_\_\_.

7. Выберите правильный ответ

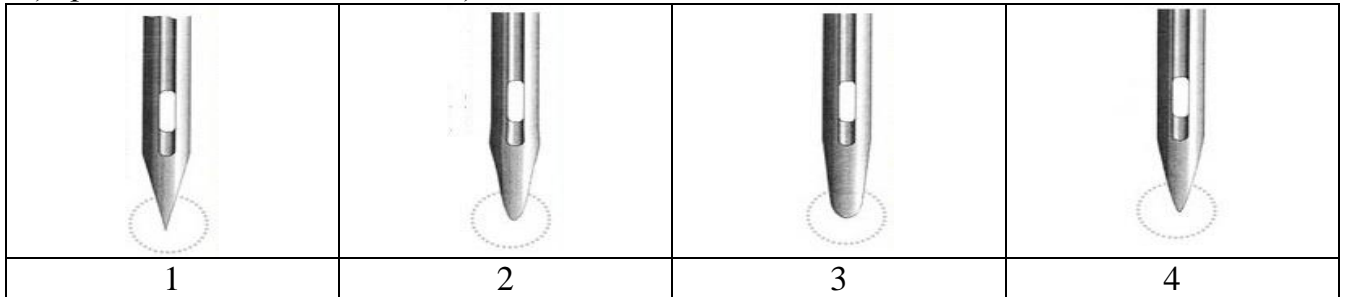
Какая из швейных машин имеет электронный тип управления?



8. Установите соответствие


Способ заточки машинной иглы в зависимости от материала, для работы с которым предназначена соответствующая игла

а) трикотажное полотно      б) JEANS



9. Выберите правильный ответ, назовите

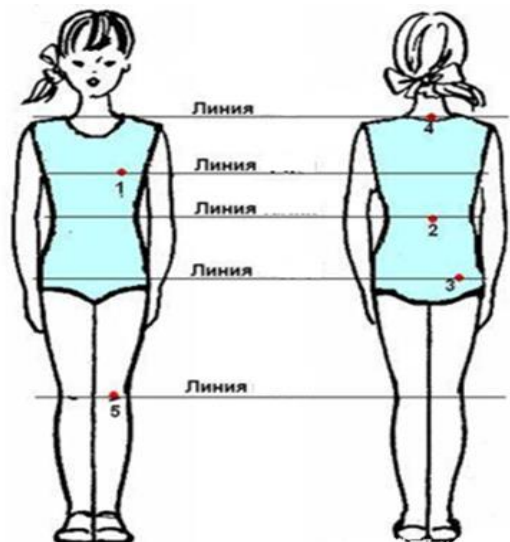
Каким швом выполняют настрачивание отделочных кокеток и накладных карманов. Это \_\_\_\_\_ шов.



10. Назовите

Линии, проходящие через точки на фигуре человека:

- 1 - \_\_\_\_\_
- 2 - \_\_\_\_\_
- 3 - \_\_\_\_\_
- 4 - \_\_\_\_\_
- 5 - \_\_\_\_\_





14. *Определите*

**Цвета, которые получаются при смешивании красок двух цветов:**

- а) синяя+красная= \_\_\_\_\_
- б) красная+ желтая= \_\_\_\_\_
- в) желтая+синяя= \_\_\_\_\_

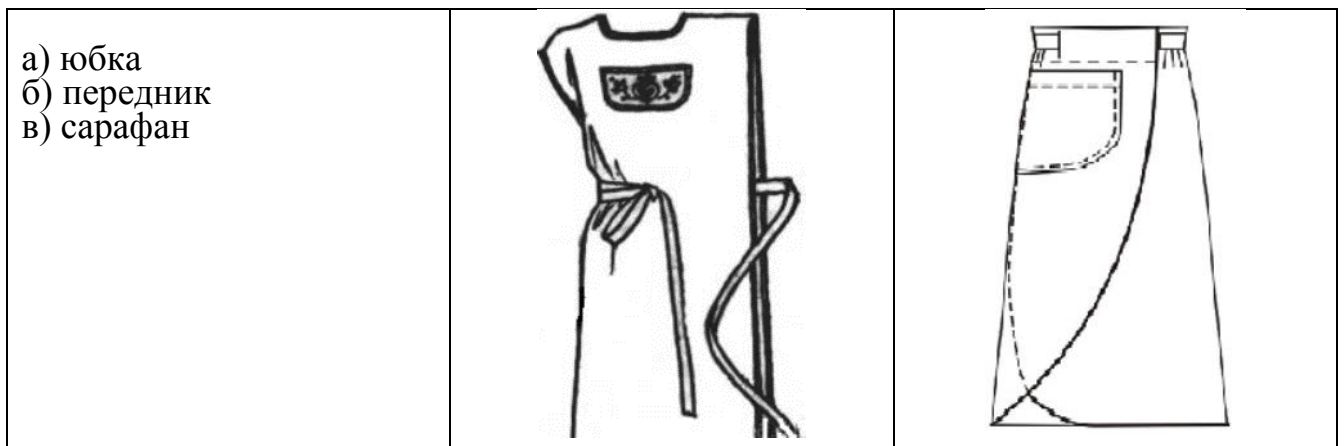
15. *Выберите ответ*

**Ласы – это:**

- а) пожелтение поверхности ткани
- б) опаливание ворса
- в) блеск на поверхности ткани


16. *Определите и выберите правильный ответ*

**Какой вид одежды представлен на эскизах**



17. *Найдите и подпишите*

**Этот вид рукоделия получил название и распространение от рыбаков, плетущих сети**



18. *Напишите*

**Какая составная часть швейной машины имеет название детали одежды?**

\_\_\_\_\_

19. *Выберите правильный ответ*

**Символ  $\times$  на листе выкройки означает, что ткань в данном месте следует**

- 1 – припосадить
- 2 – разрезать
- 3 – прорезать петлю
- 4 – присборить
- 5 – оттянуть

## Творческое задание

20.

1. Внимательно рассмотрите рисунок. Обработка какого узла изделия на нём представлена? \_\_\_\_\_

2. Допишите в графу «Последовательность выполнения работы» (1, 2, 3, 5) информацию (операции) в соответствии с представленными рисунками, соблюдая терминологию работ.

3. Назовите другой вариант аналогичной обработки деталей одежды.

Последовательность выполнения работы	Рисунок	Балл
<p>1. Проложить контрольные линии прямыми стежками по линии середины переда и спинки на основной детали.</p> <p>_____</p> <p>_____</p>		
<p>2. Подготовить обтачку:</p> <p>_____</p> <p>_____</p> <p>на величину 10 мм и заметать, обработав углы в соответствии со схемой.</p>		
<p>3. Наложить обтачку лицевой стороной на изнаночную сторону изделия, совмещая срезы горловины (убедиться, что линии середины и линии плеч всех деталей совпали). Приколоть и приметать. Обтачать горловину со стороны обтачки. Ширина шва 5 мм. Удалить наметку. Надсечь припуски швов в уголках, не дорезая до строчки 1-2 мм.</p> <p>_____</p> <p>_____</p>		

4. Отогнуть обтачку на лицевую сторону изделия. Шов обтачивания выправить и выметать, перепуская 1 мм на изнаночную сторону.  
 Приутюжить с изнаночной стороны изделия.  
 Удалить наметку, горловину тщательно приутюжить еще раз с изнаночной стороны.



5. Наложить и наметать отлетной край обтачки на изделие.

Проложить отделочную строчку по краю горловины шириной шва 1 мм по стороне обтачки.  
 Удалить сметочные стежки. Провести окончательную ВТО.



**Итого**

<b>ШИФР УЧАСТНИКА</b>	
-----------------------	--

**Лист ответов на задания теоретического тура  
Муниципального этапа Всероссийской олимпиады школьников  
по технологии 2018/19 учебного года**

**«Культура дома и декоративно-прикладное творчество»,**

**7 класс**

<b>№ задания</b>	<b>Ответ</b>	<b>Балл</b>
1		
2		
3		
4		
5		
6		
7		
8		
9		
10		
11		
12		
13		
14		
15		
16		
17		
18		
19		
20	ответы записать в листе задания	