

ЗАДАНИЯ ПЕРВОЙ (ТЕОРЕТИЧЕСКОЙ) ЧАСТИ

Задача 1. Особенности генезиса (формирования) гор часто можно определить по их внешнему виду. Какие эндогенные процессы стали главной причиной образования изображенных на рисунках гор каждого из двух основных типов?



Процесс: Вулканизм + 0,5 Процесс: _____

В таблице приведены горы с несколькими близкими по высоте вершинами. Используя информацию о «вторых» вершинах и характерных наборах природных поясов, заполните пустующие ячейки таблицы. Укажите:

- названия высочайших вершин (пиков);
- недостающие абсолютные высоты;
- названия обширных горных стран (горных систем), частями которых являются перечисленные вершины;
- названия современных государств, на территории которых расположены вершины.

Гора №	Вершина (пик)		Высотные природные пояса	Горная страна	Государство (где расположены вершины)	
	№	Название				Абс. высота, м
I	1	Арагат +1	5 165	Гольцы и снега Степи	Армянское нагорье 0,5	Турция 0,5
	2	Малый *	3 925	Сухие степи		
II	1	Эльбрус +1	5660 +0,5	Гольцы и снега Альпийские луга Смешанные и хвойные леса	Кавказ 0,5	Россия 0,5
	2	Восточная вершина	5 621	Степи		
III	1	Киншаша-Инджаро +1	0	Гольцы и снега Высокогорные луга	Эричанское нагорье	Эрмания
	2	Мавензи	5149	Дождевые леса		
	3	Шира	3962	Саванны и редколесья	-	-
IV	1	Большой Бинган +1	1400	Остепнённые луга Криволесье Широколиственные леса Степи	Платгорье 0	Россия 0,5
	2	Малый *	1254			
	3	Козьи скалы	1167			
	4	Два брата / Лисий нос	1124			
	5	Лохматая	1080			
V	1	Деналис 16	6190 +0,5	Гольцы и снега Горные тундры	Аляскинский хребет 0,5	США 0,5
	2	Северная вершина	5934	Тайга		

* Не заполнять! Вторая часть названия совпадает с названием высочайшей вершины.

- К какому типу относится большинство гор в таблице?
Тип: А (А или Б, см. рисунки) + 0,5
- Одна из гор в таблице относится к другому типу. Какая?
№: IV (I-V, см. таблицу) + 1

Задача 2. Для описания и классификации озёр в лимнологии (озероведении) широко используются как характеристики размеров (площадь водного зеркала, глубина, протяжённость береговой линии, площадь водосбора и др.), так и производные от них расчётные морфометрические показатели, например:

- **Удельный водосбор** — отношение площади водосбора к площади водного зеркала озера;
- **Открытость** — отношение площади водного зеркала озера к его средней глубине;
- **Коэффициент извилистости береговой линии** — отношение протяжённости береговой линии озера к длине окружности условного круга, площадь которого равна площади озера.

Не производя измерений и вычислений, проранжируйте по значениям перечисленных морфометрических показателей следующие озера:

Баскунчак, Онежское, Таймыр, Телецкое

Впишите названия озёр в пронумерованные поля в порядке уменьшения значения каждого показателя.

Удельный водосбор
1. Баскунчак -
2. Онежское -
3. Таймыр -
4. Телецкое - 0

Открытость
1. Онежское -
2. Баскунчак
3. Телецкое
4. Таймыр 0

Коэффициент извилистости береговой линии
1. Таймыр
2. Телецкое
3. Баскунчак
4. Онежское 1

Для многих озёр в течение года характерны значительные колебания уровня воды и, как следствие, временное изменение их основных показателей.

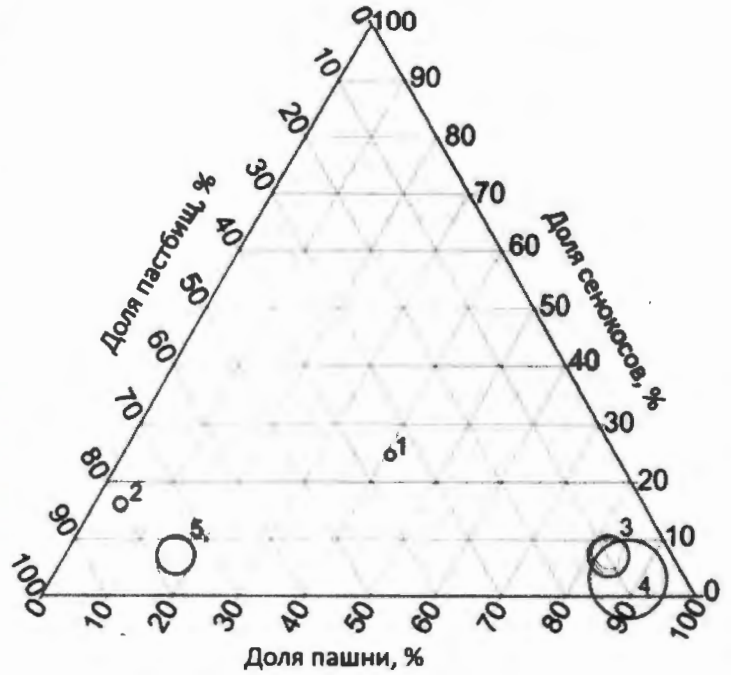
- Для каких двух из перечисленных озёр изменения уровня воды в течение года наиболее существенны?
- В течение какого сезона (времени года) наблюдается минимальный уровень воды в каждом из этих двух озёр? Чем это объясняется?

Ответы приведите в таблице.

Озеро	Сезон минимального уровня воды	Объяснение
Баскунчак +1	лето +1	Т.к. озеро находится в более жарких широтах и в него не впадают рек, в летний период озеро пересыхает. +1
Телецкое 0	осень -	Насыщенные холмы, т.к. питающие речное => реки не несут большого кол-ва воды => маленький уровень воды -

Задача 3. На треугольной диаграмме показана структура использования сельскохозяйственных угодий¹ в пяти субъектах Российской Федерации (размеры кружков пропорциональны объёму сельскохозяйственного производства). Какой цифрой на диаграмме обозначен каждый из перечисленных субъектов?

- Алтайский край 3
- Астраханская область 2
- Белгородская область 4
- Карачаево-Черкесская Республика 1
- Республика Дагестан 5



В этих субъектах сложились различные условия для развития агрохолдингов - крупнейших форм производства, образованных путем интеграции (объединения) предприятий всех звеньев агропромышленного комплекса. Помимо природных условий фактором развития агрохолдингов является сложившаяся структура производства сельскохозяйственной продукции по категориям хозяйств (см. таблицу).

Субъект РФ	Хозяйства населения (мелкие), %	Крестьянские (фермерские) хозяйства (мелкие и средние), %	Сельскохозяйственные организации (средние и крупные), %
Алтайский край	28	18	54
Астраханская область	43	44	13
Белгородская область	9	4	87
Карачаево-Черкесская Республика	44	21	35
Республика Дагестан	79	9	12

В каких двух субъектах из таблицы агрохолдинги играют наиболее важную роль в производстве аграрной продукции?

- Карачаево-Черкесская респ. 0
- Белгородская обл. 2

Какая особенность структуры производства сельскохозяйственной продукции по категориям хозяйств способствует этому? Большее количество территории находится под пашней и с этими ресурсами с большими потенциалами 0

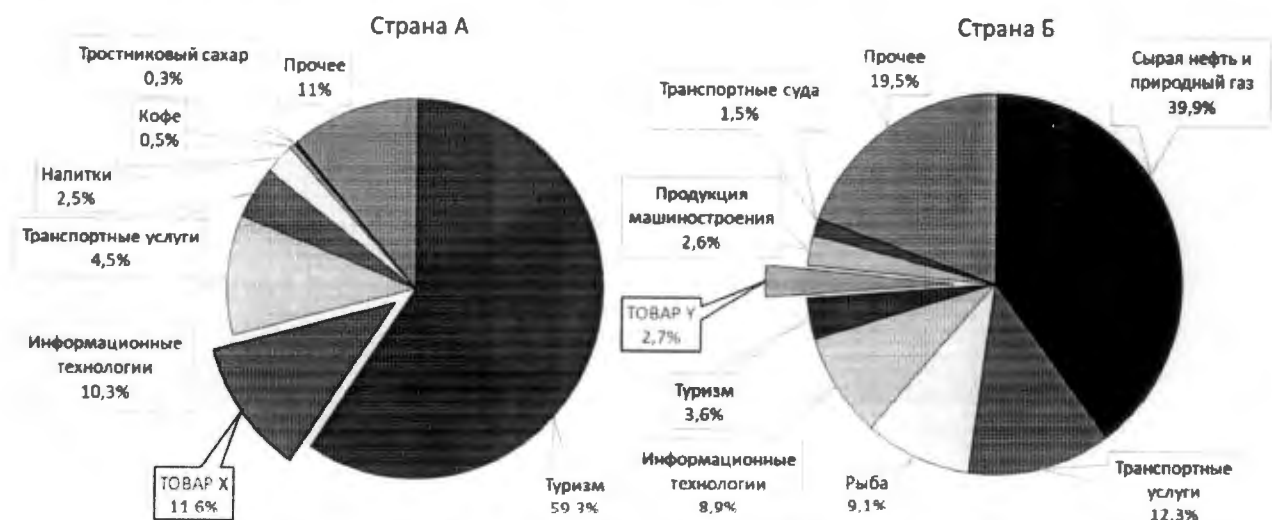
Какие две отрасли растениеводства и две отрасли животноводства наиболее интенсивно развиваются в России благодаря деятельности агрохолдингов?

- | | |
|--|--|
| <p>Растениеводство</p> <ul style="list-style-type: none"> • <u>овощеводство</u> 0 • <u>зерновое</u> 1 | <p>Животноводство</p> <ul style="list-style-type: none"> • <u>свиноводство и птицеводство</u> 1 • <u>свиноводство</u> 1 |
|--|--|

¹ Доли многолетних насаждений и залежи не учтены

Код участника (не заполнять!)

Задача 4. На рисунке представлена структура экспорта двух зарубежных стран, задействованных в глобальной цепочке добавленной стоимости одной из отраслей промышленности, которая включает в себя различные звенья. Продукция этой отрасли используется в автомобильной, авиационной, электротехнической, пищевой и других отраслях промышленности.



Структура экспорта стран, 2017 г.

Составлено по данным: The Atlas of Economic Complexity (www.atlas.cid.harvard.edu).

Страна А занимает второе место в своей части света по добыче основного вида сырья для этой цепочки и третье — по объёму производства первичного продукта его переработки (товар X). Страна Б занимает первое место в своей части света² по объёму производства продукции (товар Y), получаемой в ходе дальнейшей переработки товара X.

Определите страны А и Б, а также товары X и Y.

Страна А Вьетнам 0 Товар X Тимолоксим 2
Страна Б Норвегия 2 Товар Y Алюминий 2

Страна А специализируется на низовых, а страна Б — на завершающих звеньях данной производственной цепочки. Объясните, почему.

- Страна А
- Высокие значения добычи, т.к. обработка требует затрат. 0
 - Малокавал. работ. сила 0
 - Дешёвая раб. сила 0
- Страна Б
- лучше ЭГП 0
 - Экономика страны позволяет обрабатывать 0
 - Относятся к развитым странам 0
 - Квалифицированные раб. сила 0

6

² Не считая страны, в которой основные предприятия по производству товара Y расположены в другой части света.

ЗАДАНИЕ ВТОРОЙ (ПРАКТИЧЕСКОЙ) ЧАСТИ

(Для выполнения задания используйте карту)

1. На карту, характеризующую основные особенности расселения на территории России, с помощью различных способов картографического изображения нанесены два показателя (А и Б) и объекты (В). Завершите оформление карты, составленной по данным на начало 2019 года. Ответы приведите в соответствующих полях на карте:

- подпишите параллели и меридианы; 2
- определите и укажите масштаб карты; 2
- заполните все пустующие поля в легенде. 5

9

При определении границ диапазонов шкал учтите, что:

- для шкалы показателя А одна из границ диапазонов приблизительно равна среднероссийскому значению;
- для шкалы показателя Б использован логарифмический шаг границ (значения на границах диапазонов шкалы отличаются от смежных значений в 10 раз).

Совет: во избежание исправлений на карте пользуйтесь черновиком, предварительные ответы делайте карандашом, авторучку используйте только после проверки ответов.

2. Какие способы картографического изображения использованы для каждого из показателей (А и Б) и объектов (В)? Ответы приведите в таблице.

Показатель (объекты)	Способ картографического изображения
А	картограмма Кошмачевский фон 0
Б	Кошмачевский фон 0
В	Линейно-точечный метод 0,5

0,5

3. Ответьте на вопросы:

а) В каком субъекте Российской Федерации значение показателя А наименьшее?

б) Укажите среднее по России значение показателя Б (с единицей измерения).

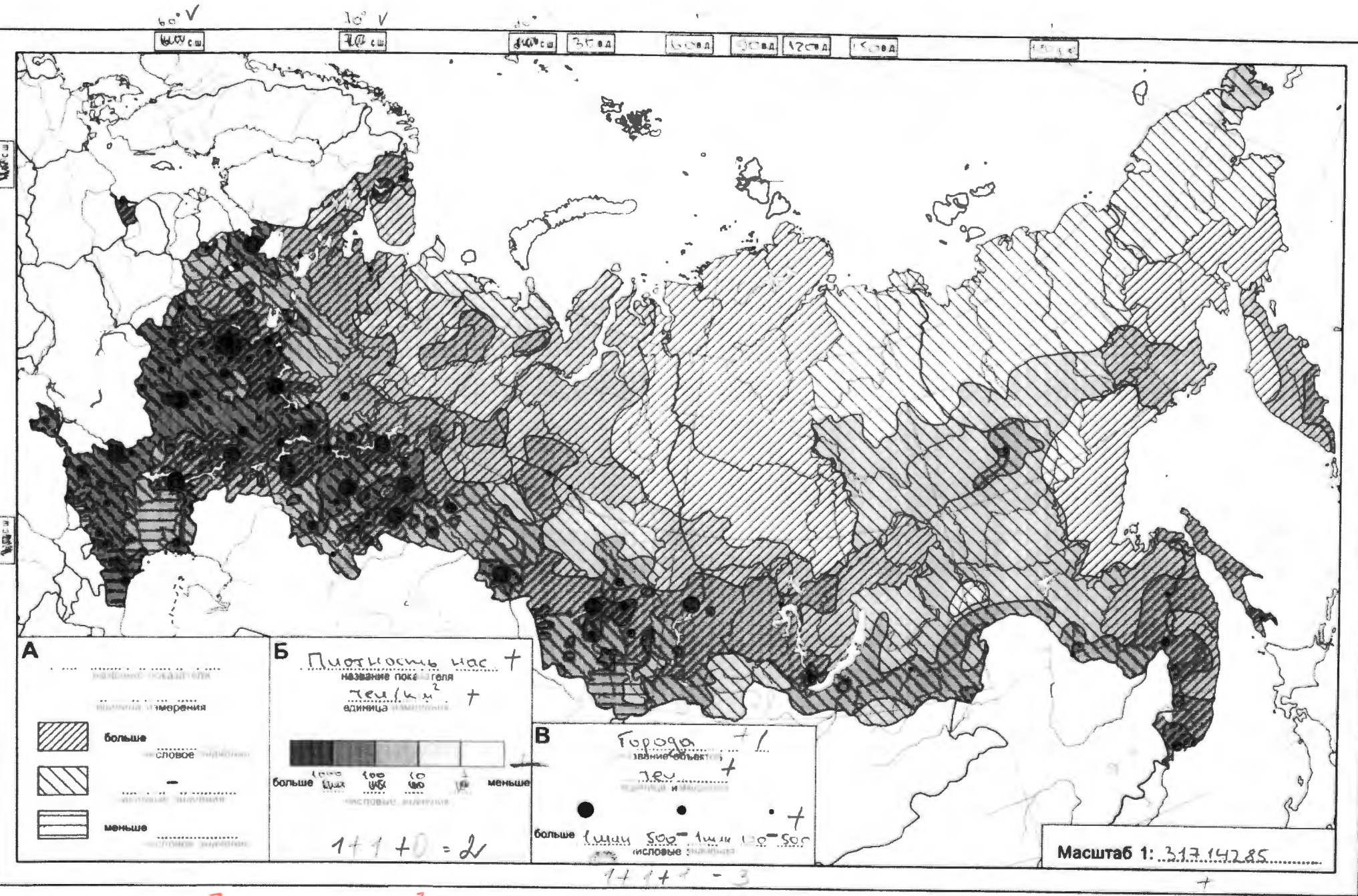
8,6 т/км² 1

2

в) Определите и укажите географические координаты (с точностью до целого градуса) объекта, обозначенного кружком среднего размера, для которого переход в категорию более крупных объектов в ближайшем будущем наиболее вероятен.

Широта 45 °с.ш. +

Долгота 40 °в.д. +



Масштаб 1: 3.17.142.85

№	Ответ (А – Г)
1.	Б
2.	В
3.	В
4.	Б
5.	А
6.	В
7.	В
8.	Г
9.	Г
10.	А

+
+
-
+
+
-
+
-
-
+

№	Ответ (А – Г)
11.	Б А
12.	Г
13.	Б
14.	В
15.	В
16.	Б
17.	В
18.	Г
19.	В
20.	Б

-
-
-
-
+
-
+
+
+
+

115