

ВСЕРОССИЙСКАЯ ОЛИМПИАДА ШКОЛЬНИКОВ ПО ОСНОВАМ
БЕЗОПАСНОСТИ ЖИЗНЕДЕЯТЕЛЬНОСТИ
(РЕГИОНАЛЬНЫЙ ЭТАП)
ТЕОРЕТИЧЕСКИЙ ТУР

старшая возрастная группа (10-11 классы)

Код/шифр участника

С	Т	-	3	1	
---	---	---	---	---	--

Уважаемый участник Олимпиады!

Вам предстоит выполнить теоретические (письменные) и тестовые задания.

Время выполнения заданий теоретического тура 4 академических часа (180 минут).

Выполнение теоретических (письменных) заданий целесообразно организовать следующим образом:

– не спеша, внимательно прочитайте задание и определите, наиболее верный и полный ответ;

– отвечая на теоретический вопрос, обдумайте и сформулируйте конкретный ответ только на поставленный вопрос;

– если Вы отвечаете на задание, связанное с заполнением таблицы или схемы, не старайтесь детализировать информацию, вписывайте только те сведения или данные, которые указаны в вопросе;

– особое внимание обратите на задания, в выполнении которых требуется выразить Ваше мнение с учетом анализа ситуации или поставленной проблемы. Внимательно и вдумчиво определите смысл вопроса и логику ответа (последовательность и точность изложения). Отвечая на вопрос, предлагайте свой вариант решения проблемы, при этом ответ должен быть кратким, но содержать необходимую информацию;

– после выполнения всех предложенных заданий еще раз удостоверьтесь в правильности выбранных Вами ответов и решений.

Выполнение тестовых заданий целесообразно организовать следующим образом:

– не спеша, внимательно прочитайте тестовое задание;

– определите, какой из предложенных вариантов ответа наиболее верный и полный;

– обведите кружком букву, соответствующую выбранному Вами ответу;

– продолжайте таким образом работу до завершения выполнения тестовых заданий;

– после выполнения всех предложенных заданий еще раз удостоверьтесь в правильности выбранных Вами ответов;

– если потребуется корректировка выбранного Вами варианта ответа, то неправильный вариант ответа зачеркните крестиком, а новый выбранный ответ обведите кружком.

Предупреждаем Вас, что:

– при оценке тестовых заданий, где необходимо определить один *правильный ответ*, 0 баллов выставляется как за неверный ответ, а также, если участником отмечены несколько ответов (в том числе правильный), или все ответы;

– при оценке тестовых заданий, где необходимо определить все *правильные ответы*, 0 баллов выставляется, если участником отмечено большее количество ответов, чем предусмотрено в задании (в том числе правильные ответы) или все ответы.

Задание теоретического тура считается выполненным, если Вы вовремя сдаете его членам жюри. **Максимальная оценка - 200 баллов.**

Желаем вам успеха!

Общая оценка результата выполнения участником заданий теоретического тура 120 баллов

Председатель жюри _____

МОДУЛЬ 1

ЗАДАНИЕ 1. Большинству инфекционных болезней свойственна определённая последовательность развития и течения. Заполните таблицу, вписав название периода развития и течения инфекционной болезни в зависимости от приведенных симптомов.

Название периода	Описание симптомов
<p><i>период наблюдения.</i></p>	<p>Период проявления общих признаков заболевания. В этот период ещё нет чётко выраженных признаков конкретного заболевания</p>
<p><i>восстановительный период.</i></p>	<p>Период, когда постепенно исчезают основные признаки болезни, начинается выздоровление организма, постепенно восстанавливаются нарушенные функции организма</p>
<p><i>основной период</i></p>	<p>Период максимального проявления наиболее существенных и специфических признаков конкретного заболевания</p>
<p><i>инкубационный период</i></p>	<p>Промежуток времени от момента заражения до появления первых признаков болезни</p>

Оценочные баллы: максимальный – 12 баллов; фактический – 5 баллов

Подписи членов жюри _____

ЗАДАНИЕ 2. Установите соответствие между назначением узла и его названием, вписав ответ в таблицу.

	Назначение
1	Для связывания верёвок одинакового диаметра
2	Для крепления верёвки к опоре
3	Для закрепления основной верёвки к карабину
4	Вспомогательные узлы

	Название узла
А	Баррел (полугрейпвайн удавка)
Б	Полугрейпвайн
В	Проводник-восьмерка
Г	Встречная восьмерка

Ответ:

1	2	3	4
Г ✓	А —	В —	Б ✓

Оценочные баллы: максимальный — 8 баллов; фактический — 4 баллов

Подписи членов жюри _____

ЗАДАНИЕ 3. Вам исполнилось 14 лет и родители на День рождения подарили сертификат на обучение в автошколе. После изучения правил дорожного движения Вы управляли автомобилем на автодроме, в жилой зоне, во дворе своего дома, а через несколько занятий Вам доверили управлять транспортными средствами на автомагистрали. Перечислите какие нарушения были допущены (что из перечисленного запрещено делать?).

✓ 1. Запрещено движение по автомагистрали на учебном автомобиле

✓ 2. Запрещено движение на учебном автомобиле в жилой зоне, и на ~~дворовой территории~~

✓ 3. Запрещено движение на учебном автомобиле на ~~дворовой территории~~

Оценочные баллы: максимальный – 12 баллов, фактический – 8 баллов

Подписи членов жюри

ЗАДАНИЕ 4. Проанализируйте указанные в таблице вредоносные программы. Определите, поставив знак «+» в соответствующем столбце таблицы, какие вредоносные программы, по системе классификации «Лаборатории Касперского», представляют наименьшую опасность, а какие наибольшую опасность.

Вредоносные программы представляющие наименьшую опасность	Вредоносные программы по системе классификации «Лаборатории Касперского»	Вредоносные программы представляющие наибольшую опасность
—	Net-Worm	
	Virus	+ ✓
—	Exploit	
	DoS	+ —
	Hoax	+ —

Оценочные баллы: максимальный — 10 баллов, фактический — 2 баллов

Подписи членов жюри

ЗАДАНИЕ 5. Группа молодых людей посетила футбольный матч, при этом допустив ряд нарушений правил поведения зрителей при проведении официальных спортивных соревнований. Прочитайте приведённый ниже текст перечислите какие нарушения были допущены (что из перечисленного запрещено делать?).

Молодые люди надели маски с символикой любимого клуба. Придя на трибуну, они обнаружили, что их места заняты, поэтому были вынуждены довольствоваться местами на лестницах и в проходе напротив выхода. Друзья устроили флэшмоб за здоровый образ жизни, главным героем которого стала принесенная ими маленькая собачка. Итогом флэшмоба стало изображение агитационного плаката на одной из опор трибуны.

✓ 1. Запрещено проносить с собой животных при проведении официальных спортивных соревнований.

✓ 2. Запрещено занимать места на трибунах в проходе и выжидать, чтобы в случае аварийной ситуации можно было без труда вывести людей.

✓ 3. Запрещено носить маски в местах массового скопления людей, чтобы не создавать порочный пример безопасности.

✓ 4. Агитационный плакат можно использовать только на официальных мероприятиях и мероприятиях зашифрованных с точки зрения.

✓ 5. Флэшмоб можно было проводить только с разрешения руководства стадиона.

Оценочные баллы: максимальный – 15 баллов, фактический – 12 баллов

Подписи членов жюри

ЗАДАНИЕ 6. В целях своевременного информирования населения о возникновении угрозы террористического акта и организации деятельности по противодействию его совершению на отдельных участках территории Российской Федерации могут устанавливаться уровни террористической опасности. Соотнесите уровень террористической опасности с его цветовым обозначением и случаем, в котором он устанавливается, вписав ответ в таблицу (вставив соответствующую букву).

Уровень террористической опасности		Цветовое обозначение уровня террористической опасности		В каком случае устанавливается уровень террористической опасности	
1	Повышенный	А	«Желтый»	Г	При наличии информации о совершенном террористическом акте либо о совершении действий, создающих непосредственную угрозу террористического акта
2	Высокий	Б	«Красный»	Д	При наличии подтвержденной информации о реальной возможности совершения террористического акта
3	Критический	В	«Синий»	Е	При наличии требующей подтверждения информации о реальной возможности совершения террористического акта

Ответ:

Уровень террористической опасности	1	2	3
Цветовое обозначение уровня террористической опасности	В ✓	А ✓	Б ✓
В каком случае устанавливается уровень террористической опасности	Е ✓	Д ✓	Г ✓

Оценочные баллы: максимальный – 18 баллов; фактический – 13 баллов

Подписи членов жюри

ЗАДАНИЕ 7. В цветографических изображениях знаков безопасности используются определенные сигнальные цвета. Из приведённого ниже списка выберите для каждого сигнального цвета соответствующее смысловое значение, область применения и контрастный цвет. Результат занесите в таблицу, вписав цифру, соответствующую правильному ответу.

А) Смысловое значение:

1. Возможная опасность.
2. Непосредственная опасность.
3. Пожарная техника, средства противопожарной защиты, их элементы.

Б) Область применения:

4. Запрещение опасного поведения или действия
5. Обозначение и определение мест нахождения пожарной техники, средств противопожарной защиты
6. Предупреждение, предостережение о возможной опасности
7. Сообщение об аварийном отключении или аварийном состоянии оборудования.

В) Контрастный цвет:

8. Белый
9. Черный

Ответ:

Сигнальный цвет	Смысловое значение	Область применения	Контрастный цвет
Красный	2 ✓ 3 ✓	4 ✓ 5 ✓	8 ✓
Жёлтый	1 ✓	6 ✓ 7 ✓	9 ✓

Оценочные баллы: максимальный – 18 баллов; фактический – 16 баллов

Подписи членов жюри

ЗАДАНИЕ 8. Ваша семья собирается поехать за границу. Вам поручили разработать памятку по обеспечению безопасности. Вы решили взять за основу выписку из **Требований по обеспечению безопасности туристов**, но часть текста оказалась утерянной. Восстановите текст, вписав пропущенные слова (словосочетания).

Туристы (экскурсанты) при совершении путешествий (экскурсий) в целях обеспечения личной безопасности обязаны:

1. Соблюдать законы страны временного пребывания, уважать ее социальное устройство, обычаи, традиции, религиозные верования.
2. Сохранять окружающую природную среду, бережно относиться к памятникам природы, наследия , культуры в стране временного пребывания.
3. Соблюдать правила въезда в страну временного пребывания и выезда из страны временного пребывания, а также страны дальнейшего проезда.
4. Проходить медицинские мероприятия в соответствии с международными и внутренними медицинскими требованиями в случае совершения путешествия в страну временного пребывания, в которой они могут подвергнуться риску инфекционных заболеваний.
5. Соблюдать на маршрутах повышенной опасности дополнительные меры безопасности: использовать специальное оборудование , оборудование, выполнять установленные требования и инструкции, подчиняться решениям инструктора-проводника, пройти соответствующий инструктаж .

Оценочные баллы: максимальный – 18 баллов; фактический – 12 баллов

Подписи членов жюри

ЗАДАНИЕ 9. Прочитайте приведённый ниже текст. Ответьте на вопросы:

А) Какое природное явление описано в тексте?

Б) Что может произойти дальше?

В) Составьте краткие рекомендации (правила поведения) для очевидцев данного явления.

На берегу океана начали происходить странные явления: вода ушла далеко от берега, смолк шум прибоя, исчезли животные и птицы. Люди пошли собирать ракушки с обмелевшего дна океана. Затем накатилась волна, выбросившая на берег много рыбы.

✓ А) Цунами

✓ Б) Второе более сильное волна.

В)

— 1. Не паниковать

✓ 2. Немедленно сообщить об этом людям находящимся на берегу.

✓ 3. Не создавать давки и толпы, какать немедленно уходить от берега, как можно дальше.

— 4. По возможности сообщить орган местного самоуправления о случившемся

— 5. Позвать специализированные координационные органы и близкие.

Оценочные баллы: максимальный – 15 баллов; фактический – 9 баллов

Подписи членов жюри 

ЗАДАНИЕ 11. На рисунке изображены части и механизмы автомата АК-74М. Ответьте на вопросы.

А) Какая важная часть отсутствует?



Б) Для чего предназначена часть, отсутствующая на рисунке?

✓

А) Крышка ствольной коробки.

✓

Б) Защищает от попадания посторонних веществ и пыли в ствольную коробку, а также для профилактики повреждений затворной рамы и возвратного механизма, и вылета возвратного механизма со своего места.

Оценочные баллы: максимальный – 16 баллов, фактический – 16 баллов

Подписи членов жюри

ЗАДАНИЕ 12. В соответствии с Уставом гарнизонной и караульной служб Вооруженных Сил Российской Федерации часовой имеет право сменить или снять с поста только начальник караула, помощник начальника караула и разводящий, которому подчинен часовой.

А) Кто может снять часового с поста в случае, если перечисленные лица не могут это сделать?

Б) Какое дополнительное условие при этом требуется?

А) Дивальской при итальении.

Б) Он должен запереть человека, на его конторке будет находиться на его месте. Должен иметь при себе огнестрельное оружие, рацию и письменное подтверждение сражения с внутренним востановлением.

Оценочные баллы: максимальный — 20 баллов; фактический — 0 баллов

Подписи членов жюри

МОДУЛЬ 2
Тестовые задания

№ п/п	Тестовые задания	Макс. балл	Кол-во набранных баллов
<i>Определите один правильный ответ</i>			
1.	<p>Данная дорожная разметка обозначает:</p>  <p> <input checked="" type="checkbox"/> а) место, где велосипедная дорожка пересекает проезжую часть; <input type="checkbox"/> б) место, где водитель должен остановиться; <input type="checkbox"/> в) полосы движения в пределах перекрестка; <input type="checkbox"/> г) пересекать запрещается. </p>	1	1
2.	<p>Данный знак безопасности обозначает:</p>  <p> <input checked="" type="checkbox"/> а) Радиационная опасность; <input type="checkbox"/> б) Внимание. Магнитное поле; <input type="checkbox"/> в) Внимание. Электромагнитное поле; <input type="checkbox"/> г) Внимание. Опасно! </p> <p style="text-align: right;"><i>Исходный вариант</i></p>	1	0
3.	<p>Под местом массового пребывания людей понимается территория общего пользования, на которой может одновременно находиться более:</p> <p> <input type="checkbox"/> а) 30 человек; <input checked="" type="checkbox"/> б) 40 человек; <input type="checkbox"/> в) 45 человек; <input type="checkbox"/> г) 50 человек. </p>	1	0
4.	<p>Картографический прибор, предназначенный для измерений длин кривых линий, называется:</p> <p> <input checked="" type="checkbox"/> а) пантограф; <input type="checkbox"/> б) координатограф; <input type="checkbox"/> в) курвиметр; <input type="checkbox"/> г) планиметр. </p>	1	1

5.	<p>Вредные вещества по воздействию на организм человека относящиеся к третьему классу опасности называются:</p> <p><input type="radio"/> а) высокоопасные;</p> <p>б) чрезвычайно опасные;</p> <p>в) умеренно опасные;</p> <p>г) малоопасные.</p>	1	0
6.	<p>Соединения Вооруженных Сил Российской Федерации привлекаются для участия в проведении контртеррористической операции по решению:</p> <p>а) Министра обороны РФ;</p> <p><input checked="" type="checkbox"/> б) Министра внутренних дел РФ;</p> <p>в) Министра юстиции РФ;</p> <p><input type="radio"/> г) Президента РФ.</p>	1	1
7.	<p>Баллистический удар является разновидностью:</p> <p>а) гидравлического удара;</p> <p>б) аэродинамического удара;</p> <p>в) механического удара;</p> <p><input type="radio"/> г) теплового удара.</p>	1	0
8.	<p>Вещества и материалы способные гореть после удаления источника зажигания относятся к:</p> <p>а) малогорючим;</p> <p><input checked="" type="checkbox"/> б) негорючим;</p> <p>в) трудногорючим;</p> <p><input type="radio"/> г) горючим.</p>	1	1
9.	<p>Лесной пожар, охватывающий все компоненты лесного биогеоценоза называется:</p> <p>а) валежный пожар;</p> <p>б) повальный пожар;</p> <p><input checked="" type="radio"/> в) ландшафтный пожар.</p>	1	0
10.	<p>Для уничтожения танков, БМП, БТР и других бронированных целей – кумулятивной гранатой, а также живой силы противника – осколочной гранатой предназначен:</p> <p>а) РПК-74;</p> <p><input checked="" type="checkbox"/> б) РПГ-7;</p> <p>в) АГС-17 «Пламя»;</p> <p>г) ПКП «Печенег».</p>	1	1

<i>Верны ли приведенные суждения? Отметьте один правильный ответ</i>			
11.	<p>Проходя через организм человека электрический ток может вызывать</p> <p>А) термическое действие</p> <p>Б) электролитическое действие</p> <p>а) верно только А;</p> <p>✓ б) верно только Б;</p> <p>Ⓐ верны оба суждения;</p> <p>г) оба суждения не верны.</p>	1	1
12.	<p>Определить стороны горизонта можно по Солнцу. В Северном полушарии Солнце находится на западе примерно:</p> <p>А) в 7 часов</p> <p>Б) в 19 часов</p> <p>а) верно только А;</p> <p>✓ Ⓑ) верно только Б;</p> <p>в) верны оба суждения;</p> <p>г) оба суждения не верны.</p>	1	1
13.	<p>Использование вредоносных компьютерных программ является:</p> <p>А) преступлением</p> <p>Б) административным правонарушением</p> <p>✓ Ⓐ) верно только А;</p> <p>б) верно только Б;</p> <p>в) верны оба суждения;</p> <p>г) оба суждения не верны.</p>	1	1
<i>Определите все правильные ответы</i>			
14.	<p>Вводят или отменяют определенные режимы и ограничения движения следующие знаки дорожного движения:</p> <p>а) приоритета;</p> <p>✓ Ⓑ) особых предписаний;</p> <p>в) предписывающие;</p> <p>г) информационные;</p> <p>✓ Ⓓ) запрещающие.</p>	2	2

15.	<p>Структура обозначения огнетушителей включает следующие обязательные части:</p> <p>а) модель огнетушителя;</p> <p><input checked="" type="checkbox"/> б) класс пожара для тушения, которого предназначен огнетушитель;</p> <p><input type="checkbox"/> в) условное название огнетушителя;</p> <p>г) геометрические размеры.</p>	2	1
16.	<p>К сигналам гражданской обороны относятся:</p> <p>а) радиационная опасность;</p> <p>б) пожар;</p> <p><input type="checkbox"/> в) биологическая тревога;</p> <p><input checked="" type="checkbox"/> г) химическая тревога.</p>	2	1
17.	<p>Областями зарождения тропических циклонов являются:</p> <p>а) Средиземное море;</p> <p>б) Атлантический океан;</p> <p><input checked="" type="checkbox"/> в) Индийский океан;</p> <p><input type="checkbox"/> г) Красное море.</p>	2	1
18.	<p>По длительности проведения выделяют следующие виды эвакуации:</p> <p><input type="checkbox"/> а) экстренная;</p> <p>б) упреждающая;</p> <p>в) продолжительная;</p> <p><input checked="" type="checkbox"/> г) среднесрочная.</p>	2	1
19.	<p>На автомагистралях запрещается:</p> <p><input checked="" type="checkbox"/> а) движение пешеходов;</p> <p>б) движение транспортных средств со скоростью менее 60 км/ч;</p> <p>в) движение транспортных средств со скоростью более 110 км/ч;</p> <p><input checked="" type="checkbox"/> г) учебная езда;</p> <p>д) движение мотоциклов.</p>	2	2
20.	<p>Из перечисленных наказаний к административным относятся:</p> <p><input checked="" type="checkbox"/> а) обязательные работы;</p> <p>б) принудительные работы;</p> <p><input type="checkbox"/> в) исправительные работы;</p> <p><input checked="" type="checkbox"/> г) лишение специального права;</p> <p>д) дисквалификация.</p>	3	2
	Количество баллов	max 28	18

Подписи членов жюри

**Приложение к заданиям (технологическая карта) практического тура
регионального этапа всероссийской олимпиады школьников
по основам безопасности жизнедеятельности
2019-2020 учебный год**

Старшая возрастная группа (10-11 классы)

Код/шифр участника	C	T	-	3	1		
--------------------	---	---	---	---	---	--	--

Контрольное время: 10 минут, 53 секунд.

Итог выполнения заданий 11:31

№ задания	1	2	3	4	5	6	7	Сумма баллов
Максимально возможное количество баллов	30	30	20	30	30	40	20	200
Количество штрафных баллов	6	9	2	30	.	21	0	68
Итог	24	21	18	0	21	19	15	118

Время выполнения заданий участником 38 мин. _____ сек.

Общая оценка результата выполнения практических заданий


Сумма набранных баллов по итогам выполнения заданий	Штрафные баллы за превышение контрольного времени	Общая оценка результата выполнения практических заданий
<u>118</u>	<u>0</u>	<u>118</u>

Председатель (заместитель председателя) жюри _____

С результатом ознакомлен _____



(подпись)

ЗАДАНИЕ 1. Преодоление зоны химического заражения в боевой обстановке.**Оценка задания. Максимальная оценка за правильно выполненное задание – 30 баллов.**

№ п/п	Перечень ошибок и погрешностей	Штраф (баллы)	Отметка о наличии штрафных баллов
1.	Участник находится без противогаза и (или) ОЗК в зоне заражения	30	
2.	Перекося шлем-маски противогаза в зоне заражения	30	
3.	Разрыв нити, имитирующей проволочную «растяжку»	30	
4.	Участником повреждены средства индивидуальной защиты	30	
5.	Манжеты перчаток не заправлены в рукава*	6	0
6.	Не застёгнут шпене́к на ОЗК*	3	
7.	Не завязана тесьма чулок на поясном ремне*	2	
Сумма штрафных баллов		6	
Итого баллов		24	
Подпись члена жюри			

*За каждую ошибку.

ЗАДАНИЕ 2. Вязка узлов.**Оценка задания. Максимальная оценка за правильно выполненное задание – 30 баллов.**

№ п/п	Степень выполнения задания	Штраф (баллы)	Отметка о результате выполнения задания
1.	Правильно завязано 9 узлов	3	—
2.	Правильно завязано 8 узлов	6	—
3.	Правильно завязано 7 узлов	9	
4.	Правильно завязано 6 узлов	12	—
5.	Правильно завязано 5 узлов	15	—
6.	Правильно завязано 4 узла	18	—
7.	Правильно завязано 3 узла	21	—
8.	Правильно завязано 2 узла	24	—
9.	Правильно завязан 1 узел	27	—
10.	Правильно завязано 0 узлов	30	—
Итого баллов			21
Подпись члена жюри			


ЗАДАНИЕ 3. Придание пострадавшему оптимального положения тела в соответствии с характером повреждения и (или) его состоянием.

Оценка задания. Максимальная оценка за правильно выполненное задание – 20 баллов.

№ п/п	Перечень ошибок и погрешностей	Штраф (баллы)	Отметка о наличии штрафных баллов
1. Пострадавший с большой кровопотерей (шок), в сознании, пульс на запястье отсутствует Выполнение задания: пострадавший укладывается на спину, ноги приподнимаются (подкладывается валик из подручных средств)			
1.1	Пострадавший не уложен на спину, ноги не приподняты	20	
1.2	Пострадавший уложен на спину, но ноги пострадавшего не приподняты (не подложен валик под голени)	10	2
2. Пострадавший с отсутствием сознания, дыхание и кровообращение сохранены Выполнение задания: пострадавший переводится в устойчивое боковое положение			
2.1	Пострадавший не переведён в устойчивое боковое положение	20	
2.2	Пострадавший переведён в устойчивое боковое положение, но страховка шейного отдела позвоночника не выполнена (неправильно выполнена)	10	
3. Пострадавший с одышкой (затруднением дыхания), в сознании Выполнение задания: пострадавший переводится в положение полусидя (с возвышенным положением верхней части туловища)			
3.1	Пострадавший не переведён в положение полусидя (с возвышенным положением верхней части туловища)	20	
3.2	Пострадавший переведён в положение полусидя, но опора для спины не создана	10	
4. Пострадавший с травмой живота, в сознании Выполнение задания: пострадавший укладывается на спину с валиком под коленями и под головой (или только под коленями)			
4.1	Пострадавший не переведён в положение на спине с валиком под коленями и головой (или только под коленями)	20	
4.2	Пострадавший не переведён в положение на спине, но валик под колени не подложен	10	
Сумма штрафных баллов			2
Итого баллов			18
Подпись члена жюри			

ЗАДАНИЕ 4. Определение азимута между ориентирами.


Оценка задания. Максимальная оценка за правильно выполненное задание – 30 баллов.

№ п/п	Перечень ошибок и погрешностей	Штраф (баллы)	Отметка о наличии штрафных баллов
№ карточки <u>6</u>		Азимут 1 <u>160</u> °	
		Азимут 2 <u>120</u> °	
		_____ (подпись участника)	
1.	За ошибку при измерении азимута более чем на 10°*	5	—
2.	За ошибку при измерении азимута более чем на 15°*	15	15,15
3.	Выход за пределы площадки до внесения результатов измерения в технологическую карту	30	—
Сумма штрафных баллов		30	
Итого баллов			
Подпись члена жюри			

*За каждую ошибку.

2ч.

ЗАДАНИЕ 5. Стрельба по мишеням.**Оценка задания. Максимальная оценка за правильно выполненное задание – 30 баллов.**

№ п/п	Перечень ошибок и погрешностей	Штраф (баллы)	Отметка о наличии штрафных баллов
1.	Невыполнение требований члена жюри по вопросам безопасности	30	
2.	Пересечение контрольной линии любой частью тела до окончания выполнения задания	30	
Результат стрельбы. Набрано участником (баллы)		$\underline{\quad\quad} + \underline{\quad\quad} + \underline{\quad\quad} = \underline{\quad\quad}$ или $\underline{7} \times 3 = \underline{21}$	
Сумма штрафных баллов		0	
Итого баллов		21	
Подпись члена жюри			

ЗАДАНИЕ 6. Оказание первой помощи пострадавшему.

Оценка задания. Максимальная оценка за правильно выполненные задания – 40 баллов.

№ п/п	Перечень ошибок и погрешностей	Штраф (баллы)	Отметка о наличии штрафных баллов
1.	Не выполнена оценка обстановки (не выполнен осмотр места происшествия и (или) не произнесено: «Обстановка безопасна» или иное, не искажающее смысла)	12	12
2.	Не выполнена проверка сознания	14	✓
3.	Не выполнена (неправильно выполнена) проверка пульса на сонной артерии	13	6
4.	Не выполнена (неправильно выполнена) проверка дыхания с помощью зрения, слуха, осязания (<i>предварительно запрокинуть голову</i>)	13	✓
5.	Не обеспечен свободный доступ к грудной клетке	7	✓
6.	Не выполнена СЛР	40	✓
7.	Нарушен алгоритм СЛР (<i>правильно: 30 надавливаний, затем 2 вдоха</i>)	13	✓
8.	Неправильная техника выполнения давления руками на грудину пострадавшего (неправильное положение рук, недостаточная или избыточная глубина давления, неправильная частота)*	7	3
9.	Неправильная техника выполнения вдохов искусственного дыхания (не запрокинута голова и (или) не зажат нос при выполнении вдоха через рот, и (или) недостаточный объём воздуха при вдохе)	8	✓
10.	Перелом каждого ребра (не более 5)*	6	✓
11.	Перелом 6 рёбер	40	✓
12.	Перелом мечевидного отростка	40	✓
Сумма штрафных баллов			21
Итого баллов			19
Подпись члена жюри			Ташин

*За каждую ошибку

ЗАДАНИЕ 7. Поражение мишени ручными гранатами.**Оценка задания. Максимальная оценка за правильно выполненное задание – 20 баллов.**

№ п/п	Перечень ошибок и погрешностей	Штраф (баллы)	Отметка о наличии штрафных баллов
1.	Невыполнение требований члена жюри по вопросам безопасности	20	
2.	Заступ за контрольную линию	20	
3.	Граната (мяч теннисный) упала в габаритах укрытия (площадка 1×2 м)	20	
Результат метания гранат (мячей теннисных). <i>За каждое попадание в обруч гимнастический Ø 90 см начисляется 10 баллов</i>			
Сумма штрафных баллов		0	
Итого баллов		15	
Подпись члена жюри		