

МЕЖРЕГИОНАЛЬНАЯ ОЛИМПИАДА ШКОЛЬНИКОВ «ЮНИОР»
ПРЕДМЕТ: ОСНОВЫ БЕЗОПАСНОСТИ И ЗАЩИТЫ РОДИНЫ
ЗАКЛЮЧИТЕЛЬНЫЙ ЭТАП
2025-2026 учебный год
7-8 КЛАСС

ОТВЕТЫ

Максимальное количество баллов – 100 баллов

ЧАСТЬ I

Выберите правильный ответ из предложенных вариантов (задания 1-10).

Задания на 4 балла

1. Для чего в газ, поступающий в жилые дома, добавляют одорант?

- А) чтобы ярче горел
- Б) чтобы придать запах для обнаружения утечки
- В) чтобы убить бактерии
- Г) чтобы повысить температуру горения

2. Наибольшей энергетической ценностью обладают

- А) белки
- Б) углеводы
- В) жиры
- Г) минеральные вещества

3. Назовите количество видов войск Вооруженных сил Российской Федерации

- А) 2
- Б) 4
- В) 5
- Г) 3

4. Определите название гранаты

- А) А 1
- Б) В 1
- В) Ф1
- Г) Д 1



5. Сколько видов уставов существует в Вооруженных силах Российской Федерации

- А) 1
- Б) 2
- В) 3
- Г) 4

6. Что означает дорожный знак?

- А) предупреждающий знак «Дорожные работы»
- Б) ремонт тротуара
- В) проход запрещен
- Г) проезд запрещен



7. Что означает дорожный знак

- А) ограничение передвижения по автомобильной дороге
- Б) запрещающий знак «движение пешеходов запрещено»
- В) передвижение не рекомендуется
- Г) запрещающий знак «переход дороги запрещен»



8. Что означает дорожный знак

- А) ограничение скорости, рядом лечебное учреждение
- Б) аптека
- В) международная организация «Красный крест»
- Г) пункт Первой помощи



9. Посредник, который помогает сторонам найти взаимоприемлемое решение конфликта называется...

- А) судья
- Б) медиатор
- В) советник
- Г) защитник

10. Совокупность правил и практик, направленных на обеспечение безопасного поведения в цифровом пространстве носит название...

- А) кибергигиена
 Б) безопасная среда
 В) антимошенник
 Г) цифровое пространство

Ответы:

1	2	3	4	5	6	7	8	9	10
Б	В	Г	В	Б	А	Б	Г	Б	А




ЧАСТЬ II

Задания на 6 баллов

11. Установите последовательность собственных действий для безопасной жизнедеятельности в повседневной и чрезвычайной ситуации.

<i>Номер действия</i>	<i>Содержание действия</i>
1)	А) Если избежать опасность не удалось, выбрать правильное решение и действовать
2)	Б) Предвидеть опасность
3)	В) По возможности постараться избежать опасность

12. Установите соответствие между командой строевого приема и его изображением.

Строевой прием	Изображение
А) «Головной убор – снять»	1) 
Б) «Равняйся»	2) 
В) «Смирно»	3) 

13. Установите соответствие между понятием и его определением.

Понятие	Определение
1 Опасность	А) это поведение человека, обеспечивающее безопасность существования личности и не наносящее вред окружающим людям
2 Безопасное поведение	Б) обстановка на определённой территории, сложившаяся в результате аварии, опасного природного явления, катастрофы, распространения заболевания, представляющего опасность для окружающих, стихийного или иного бедствия, которые могут повлечь или повлекли за собой человеческие жертвы, ущерб здоровью людей или окружающей среде, значительные материальные потери и нарушение условий жизнедеятельности людей.
3 Чрезвычайная ситуация	В) любые явления, процессы, объекты, свойства предметов, угрожающие жизни и здоровью человека.

14. Установите последовательность действий при возникновении пожара в квартире

Номер действия	Действие
1.	А) если очаг возгорания небольшой, попытаться тушить своими силами
2.	Б) эвакуироваться
3.	В) вызов специальных служб по тел. «112»

15. Установите соответствие между правилами поведения на льду и их видом.

Вид нахождения на льду	Правило
1. Выход на лед	А) Не стоит вырубать лунку в устьях рек, притоках, у бьющих ключей, а также вблизи деревьев и камыша — велика вероятность, что лёд не выдержит вес
2. Передвижение по льду	Б) При групповом переходе по льду надо двигаться на расстоянии 5–6 метров друг от друга, внимательно следя за идущим впереди.
3. Катание	В) Перед выходом на лёд необходимо определить его прочность по внешним признакам: крепкий лёд имеет ровную, гладкую поверхность, без трещин, голубоватого оттенка.
4. Рыбалка	Г) Кататься на коньках на льду водоёмов можно только на специально организованных для этого катках. Если каток устраивается на водоёме, то катание разрешается только после тщательной проверки прочности льда (толщина льда должна быть не менее 10–12 см). Массовое катание разрешается при толщине льда не менее 25 см.

Ответы:

№	11	12	13	14	15
1)	Б	В	В	В	В
2)	В	Б	А	А	Б
3)	А	А	Б	Б	Г
4)	-	-	-	-	А

ЧАСТЬ III*Задания на 6 баллов***16. Дайте определение понятию «Экология»****Ответ:** наука, изучающая взаимодействие живых организмов с окружающей средой.


17. Дайте определение понятию «Терроризм»

Ответ: идеология насилия и практика воздействия на принятие решения органами государственной власти, организациями местного самоуправления или международными организациями, связанные с устрашением насилия и (или) иными формами противоправных насильственных действий.

18. Правила вызова экстренных служб при пожаре

Ответ: позвонить по единому номеру телефона «112»; сообщить диспетчеру характер происшествия и точный адрес; сообщить информацию о наличии пострадавших; ответив на все вопросы, положить трубку последним.

19. Что означает этот дорожный знак для автомобиля?



Ответ: въезд запрещен

20. Что означает этот дорожный знак для велосипедиста?



Ответ: Пешеходная и велосипедная дорожка с совмещенным движением (велопешеходная дорожка с совмещенным движением).