

МЕЖРЕГИОНАЛЬНАЯ ОЛИМПИАДА ШКОЛЬНИКОВ «ЮНИОР»

ПРЕДМЕТ: ОКРУЖАЮЩИЙ МИР

ЗАКЛЮЧИТЕЛЬНЫЙ ЭТАП

2025-2026 учебный год

4 КЛАСС

ОТВЕТЫ

Максимальное количество баллов – 100 баллов

ЗАДАНИЯ ПО 4 БАЛЛА.

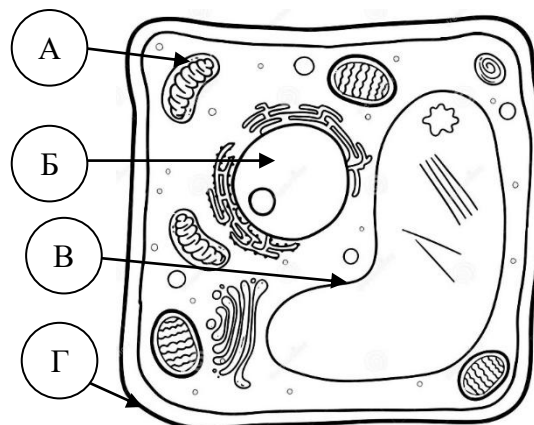
**ВЫБЕРИТЕ ОДИН ПРАВИЛЬНЫЙ ОТВЕТ
И ЗАНЕСИТЕ ЕГО В БЛАНК ОТВЕТОВ ЗНАКОМ «X»**

1. Выберите объекты, который НЕ относится к живой природе:

- А) Бабочка в небе и морская вода
- Б) Упавший лист с дерева и парящая снежинка
- В) Молния в грозу и крона дерева
- Г) Мох в лесу и камень в поле

2. Рассмотрите рисунок и определите НЕВЕРНО отмеченную часть клетки

- А) Цитоплазма
- Б) Ядро
- В) Вакуоль с клеточным соком
- Г) Клеточная мембрана



3. Чем занимается кинолог?

- А) изучает историю человечества
- Б) лечит проблемы сердца и сосудов у людей
- В) дрессирует собак
- Г) создает кинофильмы

4. Английская пословица гласит «Если бы не было облаков, мы бы не любили солнце». Как звучит эта пословица в русском языке?

- А) Первый прочный снег падает ночью.
- Б) Чем ночь темнее, тем ярче звёзды.
- В) Ничто не вечно под луной.
- Г) Хоть и хороша погода, а зонтиком запасайся.

5. В ёмкость налили воду температурой 30 градусов и насыпали соль. Через 1 минуту вода стала солёной. Этот опыт доказывает:

- А) Вода – это жидкость, она принимает форму того сосуда, в котором находится
- Б) У воды высокая теплоёмкость, она медленно нагревается и медленно остывает
- В) Вода прозрачна, если опустить в стакан ложку, её будет хорошо видно
- Г) Вода – хороший растворитель

6. Используя приведённую ниже таблицу, ответьте на вопрос.

Какие растения из перечисленных в таблице наименее распространены по материкам?

Растение	Материк					
	Евразия	Африка	Южная Америка	Австралия	Северная Америка	Антарктида
Кактус		■	■		■	
Колобантус кито			■			■
Орляк папоротник	■	■	■	■	■	
Магнолия	■				■	
Эвкалипт царственный				■		
Липа	■		■		■	
Секвойя					■	
Дуб	■	■	■		■	

- А) Магнолия и Секвойя
- Б) Эвкалипт царственный и Колобантус кито
- В) Секвойя и Эвкалипт царственный
- Г) Колобантус кито и Липа

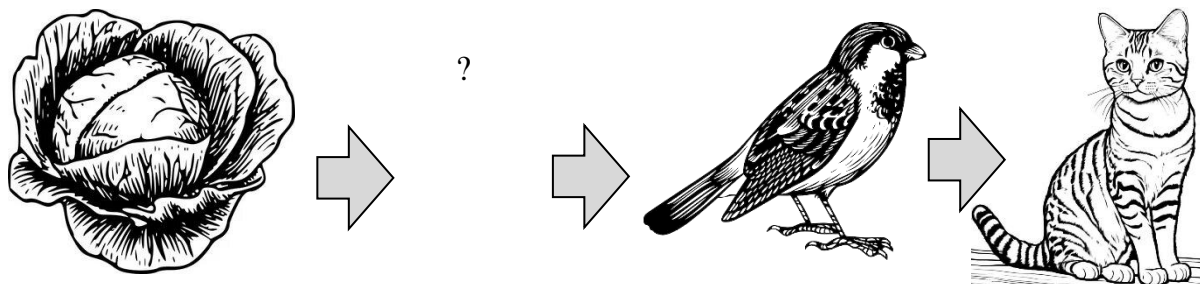
7. У каких планет Солнечной системы нет спутников?

- А) Меркурий, Юпитер
- Б) Сатурн, Уран
- В) Земля, Сатурн
- Г) Меркурий, Венера

8. Выберите растение, которое использовали для производства одежды на Руси:

- А) крапива
- Б) берёза
- В) липа
- Г) подорожник

9. Рассмотрите схему с изображением пищевой цепи. Какой организм является недостающим звеном в цепи питания?



- А) Лягушка
- Б) Комар
- В) Слизень
- Г) Крот

10. По описанию определите природную зону.

Обширная равнинная территория с однообразным пейзажем, скудной почвой, флорой и фауной. Такие участки суши находятся на всех континентах, за исключением Европы. Крайне редкие осадки, которые могут выпасть раз в несколько месяцев или даже лет.

- А) Тундра
- Б) Тайга
- В) Степь
- Г) Пустыня

Ответы:

	1	2	3	4	5	6	7	8	9	10
А		X						X		
Б	X			X						
В			X			X			X	
Г					X		X			X

**ЗАДАНИЯ ПО 10 БАЛЛОВ. ВЫПОЛНИТЕ ЗАДАНИЕ.
ОТВЕТ ЗАПИШИТЕ В БЛАНК ОТВЕТОВ.**

11. Распределите слова на 2 группы

В бланке ответ запишите номера в порядке возрастания, для каждой группы отдельно.

- | | |
|-------------|-----------------|
| 1. Астра | 6. Можжевельник |
| 2. Клюква | 7. Лён |
| 3. Шиповник | 8. Подорожник |
| 4. Кофе | 9. Соя |
| 5. Зверобой | 10. Ваниль |

- А. Культурные растения
Б. Дикорастущие растения

Ответ:

А 1, 4, 7, 9, 10
Б 2, 3, 5, 6, 8

12. Прочтите ситуацию:

«В вашей квартире (доме) внезапно произошёл пожар. Огонь быстро распространяется по жилищу. В квартире (доме) вы один (одна)».

Ниже приведены различные действия. В бланке ответов укажите правильный порядок этих действий.

- А) Перед уходом из помещения закрыть окна. Прикрыть дверь, не запирая её на ключ.
Б) Покинуть помещение. Стараться держать голову ближе к полу (там меньше дыма). Прикрывать рот и нос мокрой тканью или шарфом.
В) Следовать инструкциям пожарных.
Г) Позвать взрослых или позвонить 112 (указать адрес, возможную причину возгорания).
Д) Встретить пожарных в безопасном месте. Рассказать взрослым всё о произошедших событиях.

Ответ: Г А Б Д В

13. Сопоставьте виды растений с природной зоной, в которой они обитают:

Природная зона	Природная зона
А) Дрофа	1. Зона арктических пустынь
Б) Кайра	2. Тундра
В) Клест	3. Тайга
Г) Овцебык	4. Степь
Д) Черепаха	5. Пустыня

Ответ:

А	Б	В	Г	Д
4	1	3	2	5

14. Прочитайте текст, выберите правильные ответы на пропуски из предложенных ответов.

1 для опыта сырое яйцо, два прозрачных стакана. Понадобится вода и несколько столовых ложек соли.

1. В первый стакан налейте водопроводную воду. Поместите 2 в воду. Оно опустится на дно стакана.

2. Во второй стакан также налейте воду. 3 в воде несколько ложек соли. 4 яйцо в солёную воду. Оно будет плавать на поверхности.

Вывод: 5 повышает плотность воды. Чем больше соли в воде, тем сложнее в ней утонуть.

А) Яйцо

Б) Соль

В) Возьмите




Г) Поместите

Д) Растворите

Ответ:

1	2	3	4	5
В	А	Д	Г	Б

15. Арсений в течение дня наблюдал за погодой и описал её в дневнике наблюдений условными обозначениями. Опишите в бланке ответов погоду по условным обозначениям, предположите какое время года в Тюмени.

			+ 24°C	80%
---	---	---	--------	-----

Ответ:

По обозначениям можно сделать вывод, что в Тюмени лето.

Сегодня на небе были кучево-дождевые облака, дул сильный северо-восточный ветер. Было пасмурно, но жарко – 24 градуса тепла. В обед пошёл град. Влажность воздуха составила 80%.

16. Рассмотрите изображение. Что изображено на данной эмблеме и каким событиям она посвящена? Объясните, почему оно является значимым для граждан нашей страны? Как ты и твои близкие сохраняете память о событиях тех лет?

Ответ:

На эмблеме изображен памятник «Родина-мать зовёт!», находящийся в городе Волгоград и георгиевская лента. Эмблема посвящена восьмидесятилетию со Дня Победы в Великой Отечественной войне.

Данное событие является значимым для граждан нашей страны, так как война отразилась на каждой российской семье. Граждане всего Советского союза помогали в достижении этой победы: сражались на полях сражений и трудились в тылу. Война унесла много миллионов жизней. Я и мои близкие каждый год посещаем Парад Победы в своём городе, участвуем в акции «Бессмертный полк». В школе я принимаю участия в конкурсах, посвящённых Дню Победы. Также мы с классом навещаем ветерана ВОВ.

