

МЕЖРЕГИОНАЛЬНАЯ ОЛИМПИАДА ШКОЛЬНИКОВ «ЮНИОР»
ПРЕДМЕТ: ОСНОВЫ БЕЗОПАСНОСТИ И ЗАЩИТЫ РОДИНЫ
ЗАКЛЮЧИТЕЛЬНЫЙ ЭТАП
2025-2026 учебный год
5-6 КЛАСС

ОТВЕТЫ

Максимальное количество баллов – 100 баллов

ЧАСТЬ I

Выберите правильный ответ из предложенных вариантов (задания 1-10).

Задания на 4 балла

1. Травмы, при которых нарушена целостность кожи (слизистых оболочек), называются

- А) открытыми
Б) проникающими
В) закрытыми
Г) непроникающими

2. Определите опасные геологические явления.

- А) обвал
Б) землетрясение
В) вулканическое извержение
Г) абразия

3. Определите тип гранаты (см. рисунок).

- А) РГД
Б) ДРГ
В) ГРД
Г) РГД 5



4. Какое мероприятие является первоочередным при оценке обстановки во время оказания первой помощи?

- А) прекращение действия повреждающих факторов на пострадавшего
Б) устранение угрожающих факторов для жизни и здоровья пострадавшего
В) определение угрожающих факторов для собственной жизни и здоровья
Г) извлечение пострадавшего из транспортного средства или других труднодоступных мест.

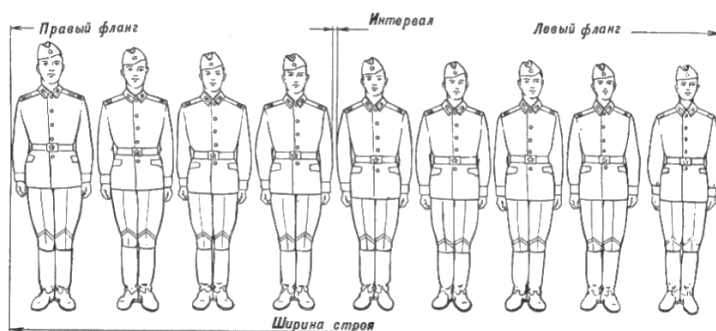
5. Целью обзорного осмотра пострадавшего является определение...

- А) участков деформации
Б) ссадин и кровоизлияний
В) обстоятельств травмы
Г) признаков наружного кровотечения

6. Что стоит сделать в первую очередь, если вы почувствовали запах газа в квартире?

- А) перекрыть кран подачи газа
Б) позвонить в экстренную службу
В) выключить все электроприборы
Г) обеспечить приток воздуха в помещение

7. Дайте название построению



- А) в одну колонну
Б) в одну шеренгу
В) по росту
Г) лицом к фронту

8. Дайте название воину, стоящему первым в строю (см. картинку вопроса №7)

А) левофланговый

В) прапорщик

Б) командир

Г) направляющий

9. Дайте название воину, стоящему последним в строю (см. картинку вопроса №7)

А) правофланговый

В) заместитель командира

Б) замыкающий

Г) тыловой

10. Назовите вид стрелкового оружия

А) АК 74

Б) РПК

В) СВД

Г) РПГ



Ответы:

1	2	3	4	5	6	7	8	9	10
А	АБВГ	Г	В	Г	А	Б	Г	Б	А

ЧАСТЬ II

Задания на 6 баллов



11. Установите соответствие между дорожными знаками и их типом

Тип дорожного знака	Обозначение
1) Предупреждающие знаки	А)
2) Запрещающие знаки	Б)
3) Информационные знаки	В)
4) Знаки сервиса	Г)

12. Установите соответствие между дорожными знаками и их типом

Тип дорожного знака	Обозначение
1) Предписывающие знаки	<p>А) </p>
2) Знаки дополнительной информации	<p>Б) </p>
3) Знаки особых предписаний	<p>В) </p>
4) Знаки приоритета	<p>Г) </p>

13. Установите соответствие между характером чрезвычайной ситуации и ее проявлением


Характер ЧС	Проявление
А) ЧС природного характера	<p>1) </p>
Б) ЧС техногенного характера	<p>2) </p>




В) ЧС биолого-социального характера	<p>3) </p>
-------------------------------------	---

14. Установите соответствие между обозначением и изображением воинских символов современных Вооруженных Сил Российской Федерации.

Воинский символ	Изображение
1. Знамя Вооруженных Сил Российской Федерации	<p>A) </p>
2. Эмблема Верховного главнокомандующего вооружёнными силами Российской Федерации	<p>B) </p>
3. Петличная эмблема автобронетанковых войск	<p>B) </p>
4. Военный геральдический знак - эмблема вооруженных сил Российской Федерации	<p>Г) </p>

15. Установите соответствие между дорожно-транспортным происшествием и причиной их возникновения

Причина	ДТП
1. Действия водителей	<p>A) </p>

2. Действия пешеходов	 <p>Б)</p>
3. Техническое состояние автомобиля	 <p>В)</p>
4. Состояние дороги	 <p>Г)</p>

Ответы:

№	11	12	13	14	15
1)	Г	Б	В	В	В
2)	В	Г	А	А	Б
3)	А	А	Б	Г	Г
4)	Б	В	-	Б	А

ЧАСТЬ III

Задания на 6 баллов

Ответьте на вопросы

16. Дайте определение понятию «Экстремизм»

Ответ: приверженность к крайним взглядам и, в особенности, к мерам (обычно в политике).

17. Перечислите основные опасные формы проявления конфликта

Ответ: агрессия, домашнее насилие, травля.

18. Перечислите стадии развития межличностного конфликта

Ответ: возникновение, эскалация, разрешение.

19. Перечислите состав аптечки первой помощи

Ответ: средства защиты, кровоостанавливающие средства, перевязочные материалы, дополнительные инструменты, термозащитные средства, инструкция по оказанию первой помощи.

20. Дайте определение понятию «Здоровый образ жизни».

Ответ: Образ жизни, не наносящий вреда здоровью.